

# 新北市立國民中學 115 學年度教師聯合甄選

## 歷史科試題

考生作答說明：

- 一、 請先檢視答案卡科目、准考證號碼是否相符？如果不符，請立即向監試人員反映。
- 二、 本試題計有：選擇題 70 題。
- 三、 題目如涉及計算，禁止使用電子計算功能設備運算。
- 四、 答案卡請使用黑色 2B 鉛筆畫記作答，禁止使用立可白塗改，以免無法判讀。
- 五、 答案卡與試題卷須一起繳交，始可離開試場。
- 六、 請務必於試題封面填上准考證號碼。

准考證號碼：\_\_\_\_\_

新盟知同网

科目：歷史科

選擇題：共 70 題，總分 100 分。第 1~40 題，每題 1 分；第 41~70 題，每題 2 分

1. 日治時期臺灣總督府為財稅收入起見，實施專賣制度，將哪一項物品納入官方的專賣事業？  
(A) 香蕉 (B) 茶 (C) 糖 (D) 鹽
2. 美國聯邦檔案館典藏了美國建國時期的重要三份歷史文件，其中一份文件用於宣告脫離英國統治，以及強調基本人權理念。請問此文件為？  
(A) 權利法案 (B) 美國憲法 (C) 獨立宣言 (D) 人權宣言
3. 1622 年有位傭兵參與荷蘭東印度公司的遠征戰役，其日記寫著：「○有三四個島嶼，最好的由葡萄牙人居住，但那是不毛之地，只能種點花草和橘子。其他島嶼都不能住人，有灌木覆蓋群山，其間有山羊、母牛等牲畜，從港口就能望見。」此戰役源起於荷蘭人抵達東亞時，發現○此重要據點已為葡萄牙人所佔有，為打開與中國貿易，因此發動攻擊。請問此地為何處？  
(A) 澳門 (B) 果亞 (C) 雞籠 (D) 澎湖
4. 某位歷史人物的年譜，記載他 35 歲那一年發生的重大事蹟，如下：「清光緒二十四年、戊戌三十五歲……五月，德宗用甲、乙等，銳意變法維新。八月，慈禧后囚德宗，復訓政，罷新法，殺六君子，追捕甲、乙等。」請問甲、乙分別為哪兩人？  
(A) 魯迅、秋瑾 (B) 康有為、梁啟超 (C) 宋教仁、張學良 (D) 林則徐、段祺瑞
5. 小澈參觀大韓民國歷史博物館，發現館藏一張 1950 年代的宣傳海報，海報的重點在於向農民宣導多種植豆類，不僅蛋白質含量高，也可作為糧食供給所需。這張海報下方標註“KCAC in Cooperation with the Ministry of Agriculture and Forestry of Korea”，KCAC 即「韓國民事援助司令部 (Korea Civil Assistance Command)」，該組織的前身設立於 1950 年 11 月，與一場戰爭的爆發有關係。請問此場戰爭為何？  
(A) 韓戰 (B) 江華島事件 (C) 辛未洋擾 (D) 古巴危機
6. 某份資料記載：「大員的孤兒事務所與婚姻事務所的官員和委員，按照歷年的慣例延長任期。原住民之間對獵場的使用發生嚴重糾紛。蕭壠社和麻豆社的居民告訴新港社與大目降社的人說，以後他們不得再來他們的獵場打鹿。那些失去獵場又不得在赤崁附近打獵的人，無法充分取得生活必需品了。」請問此份資料中的原住民社應位於何處？  
(A) 宜蘭 (B) 花蓮 (C) 基隆 (D) 臺南
7. 小凱為撰寫歷史報告「國共內戰時期的財政」，利用檔案館典藏的目錄，尋找相關史料，他發現一件 1948 年的檔案，內容為某個新貨幣的發行辦法草案。請問該貨幣為何？  
(A) 袁大頭銀幣 (B) 關金券 (C) 金圓券 (D) 銀元券
8. 新加坡檳城、香港等地的華人社會習慣於農曆七月舉辦盂蘭勝會，主要目的在於祭祀祖先及孤魂野鬼。請問臺灣哪項民俗宗教活動，其舉辦時間與目的最類似於盂蘭勝會的活動？  
(A) 和平島王爺海上遊江 (B) 馬祖擺暝  
(C) 東山吉貝耍西拉雅族夜祭 (D) 基隆中元祭

9. 某份文獻描述甲午戰爭之際，中日雙方的談判經過：「抵馬關，日本全權甲、陸奧宗光等集馬關，以春帆樓為會議所，互勘敕書。甲要以大沽、天津、山海關為質，始允停戰；乙不可，甲執愈堅。乙謂若不允停戰，請勿攻大沽、天津、山海關三處，先議和約；甲不可。乃先議約。二十八日，乙自會議所歸，遇刺客小山豐太郎狙擊，彈傷顱，創甚；日皇深致歉意，遣醫慰治。」請問文獻中的談判代表甲、乙分別為何人？
- (A) 豐臣秀吉、戚繼光  
(B) 鈴木貫太郎、蔣介石  
(C) 東條英機、梅汝璈  
(D) 伊藤博文、李鴻章
10. 史書記載：「周室既衰，禮樂征伐自諸侯出，轉相吞滅，數百年間，列國耗盡。至春秋時，尚有數十國，五伯迭興，總其盟會。陵夷至於戰國，天下分而為七，合從連衡，經數十年。□遂並兼四海。以為周制微弱，終為諸侯所喪，故不立尺土之封，分天下為○，盪滅前聖之苗裔，靡有子遺者矣。」請問文中的□應為哪個朝代？○應為哪項重要制度？
- (A) 秦、郡縣 (B) 商、禮樂 (C) 秦、度量衡 (D) 商、封建
11. 臺灣仕紳的遊記寫下：「復登船過紅毛城(一名滬尾城)。此處係三百年前○人據此地時建築砲臺，今僅留一洋房，英領事署在焉。至稅關登岸，到旅具檢查室、見本室。」請問上述遊記內容中的○人是指？
- (A) 紐西蘭 (B) 法國 (C) 西班牙 (D) 加拿大
12. 澎湖的講美天主教堂，曾經有塊越南難民的捐款紀念碑，碑文以中文、英文、越南文寫著：「越南難民天主教徒叩謝耶穌聖心」。這塊碑文的出現是因為當地曾經收容過不少越南難民，而難民中有一些天主教徒。請問天主教信仰進入越南，與哪個國家曾經殖民越南有關？
- (A) 法國 (B) 荷蘭 (C) 英國 (D) 德國
13. 大清帝國治理臺灣原住民的政策，哪一項敘述正確？
- (A) 中部地區曾經爆發原住民的反抗事件，為「加禮宛事件」  
(B) 平埔族未曾漢化，始終維持自己的傳統文化  
(C) 土牛溝為番界的形式之一  
(D) 林爽文事件後，促使清廷宣布臺灣建省
14. 白護理師讀到一份 1950 年代初期的資料：「對於軍人癲瘋病患收容事宜，本部意見如次：一、查本部現無癲瘋病院之設置，現以經費拮据亦無設院可能，惟癲瘋病係屬惡性傳染病，如此項軍患散留部隊不但影響士氣且極易妨礙地方人民健康（據報現待收容者已有 8 人）。二、復查○配置圖所載房舍甚多，請貴處轉飭該院儘量設法擴展收容軍人病患。」資料中的○醫療院所位於北部，自 1930 年代以來，便專門收容遭到隔離的漢生病患。由於戰後軍人患者的人數增加，該醫療院所遂取得美援經費，用以增建新房舍、擴充院舍，藉此解決患者收容問題。請問○醫療院所最可能指何者？
- (A) 臺北盲啞學校 (B) 臺北更生院 (C) 樂生療養院 (D) 羅東聖母醫院

15. 朝聖之路與朝聖之旅在不同的宗教儀式、社會文化裡，經常具有重要意涵。日本社會有所謂「四國遍路巡禮」，透過徒步行走的方式，遍訪佛教寺院，此朝聖路徑的形成，相傳最早是與僧侶空海宣揚佛法有關，而空海與日本派出的使節等人，曾於中國某個朝代前往長安，學習佛法。請問以下哪一件事情，發生於此朝代期間？
- (A) 蘇美人發明楔形文字  
(B) 穆罕默德積極傳播伊斯蘭教  
(C) 狄奧多西宣布基督教為羅馬國教  
(D) 英國國王亨利八世建立英國國教派
16. 閱讀某位歷史人物他所留下的獄中文書，寫著：「趙港兄和周渭然兄可能尚未出院，請你寫慰問信說我盼望他們充分療養。……關於取消上訴問題，前些天見面時，你們都說同意，而且昨天晚上收到古屋先生二十五日來的明信片，同樣認為以不上訴為宜，……」。又，某天寫下：「是歡樂的新年！然而，侵襲清晨的是，全島三百餘人被大檢舉，五百餘處住宅被大搜查。與農民組合有關係的人以及與他們來往的人和家都完全一片混亂！」。請問前述的獄中文書，最有可能為何人所寫？
- (A) 安重根 (B) 簡吉 (C) 雷震 (D) 柯旗化
17. 小治預計今年連假期間前往日本長崎旅遊，熱愛歷史的他，在出發前欲先瞭解長崎的歷史，他可能閱讀到哪些曾經發生於此地的歷史？請選出敘述正確者。
- 甲、1945 年美國在長崎投下原子彈  
乙、德川幕府所在地  
丙、長崎出島曾設立荷蘭商館  
丁、當地有一家重要的商號「泰益號」為華人所經營
- (A) 甲、乙、丙 (B) 乙、丙、丁 (C) 甲、丙、丁 (D) 甲、乙、丁
18. 臺灣有位仕紳在某天的日記中，記錄其公務會議重點：「近十時，支廳長來開臨時會議，因此十五起，本區內各庄欲施行春季大清潔法故也；又諭，各保宜查女子自十歲以內，凡纏足者要報告解纏云云，近十一時散會。」依據他的日記內容，請問此位仕紳當時最可能擔任的職務為何？他所擔任的職務與哪項制度有關？
- (A) 保正、保甲制度  
(B) 教諭、教育制度  
(C) 看護婦、護理制度  
(D) 接線生、郵政制度
19. 二戰結束後，由於共產陣營與反共陣營之間的對抗態勢，促成某些組織的誕生。以下哪些組織為前述歷史背景下的產物？
- 甲、北大西洋公約組織  
乙、華沙公約組織  
丙、東南亞公約組織  
丁、亞太經濟合作會議
- (A) 甲、乙、丙 (B) 乙、丙、丁 (C) 甲、丙、丁 (D) 甲、乙、丁



20. 學生們正在歷史課堂熱烈討論著，關於中國歷史上曾經出現過的考試及選才制度，以下為四位同學之說法。請問歷史老師聽完討論後，有哪幾位學生的說法需要進一步訂正？
- 甲生：商朝設置「太學」培養官員，儒學成為主流思想文化  
乙生：隋朝改採科舉制度，選拔人才  
丙生：漢武帝創設「九品官人法」，作為任官依據，助長世家大族之勢力  
丁生：「察舉」孝子及廉吏是周朝重要的任官途徑
- (A) 甲、乙、丙 (B) 乙、丙、丁 (C) 甲、丙、丁 (D) 甲、乙、丁
21. 清代某地方志書：「預籌進山備道，以便策應緩急也。查○甫入版圖，現為漳、泉、粵三籍民人雜處，夙分氣類，難保以強凌弱之事。必須預籌備道，以應緩急。茲據該鎮、道、府查明，現由淡水三貂過蔴蔴嶺抵頭圍，係入山正道，應以此為往來大路，係在漳人分得地界之內。又一路由艋舺之大坪林進山，從內山行走，經大湖隘，可抵東勢之溪洲，係在泉人分得地界之內。又一路由竹塹之九芎林進山，經鹽菜甕，翻玉山腳，由內鹿埔可出東勢之叭哩沙喃口，係在粵人分得地界之內。」該段文獻內容提及前往某地區○之交通要道及族群關係，請問此份文獻出處應為當時何地之地方志書？
- (A) 噶瑪蘭 (B) 苗栗 (C) 鳳山 (D) 彰化
22. 臺灣有座教會建築被登錄為文化資產，該教會興建於1960年代，當時因為駐紮於當地軍事基地的基督徒士兵們，有宗教信仰方面的聚會需求，遂建立教堂作為禮拜場所，其建築特色之一為教堂座椅下方可放置軍人S腰帶、頭盔等用品。此間教會的建立可說是見證了冷戰時期的臺灣軍事發展。請問此間教會為何者？
- (A) 淡水基督長老教會  
(B) 高雄玫瑰聖母聖殿  
(C) 屏東萬金聖母聖殿  
(D) 臺中清泉崗聖潔教會
23. 《宋會要輯稿·食貨》記載：「五年五月，遣使福建取○稻三萬斛，分給江、淮、兩浙三路轉運使，並出種法，令擇民田之高仰者分給種之。……是稻即旱稻也。」從前述文獻可以瞭解當時朝廷正在推廣從某地引進的早熟稻米品種，希望民間能多多加以種植。請問此稻米是從何處引進？
- (A) 占城 (B) 西夏 (C) 高麗 (D) 欽察汗國
24. 日人初到臺灣時，曾經展開舊慣調查，下列為關於清代臺灣土地開闢之記載：「今據彰化縣民番陳眉生呈請在眉裡社地方，坐落西港坑處勘有荒埔一段，東至大山腳為界，西至西港社竹圍邊為界，南至湳仔城為界，北至山腳為界。出具保結，情願承領試墾成熟，報請勘丈定則陞科前來，應准填給○收執，須至執照者。」請問○為何種文書？
- (A) 粧奩目錄 (B) 墾照 (C) 戶口名簿 (D) 旅券
25. 某份資料記載：「作謙云：貴公使諒已見到對德和約之全文，貴公使亦知此項約文，是否為已交德國代表之最後草案乎，本部自五月四日以來未曾接到電報，未得和約已交德人之消息。……作謙云：據最近陸總長來電，似甚沮喪，殊可證實中國要求之失敗，與草案之最後決定。山東條款係英國首相之提議，其第二辦法係以無條件的許日本，繼德國之後，是中國以正義與法律為依據之要求完全失敗。」此外交事件後來引發市民、學生們的不滿及抗議，而後各地紛紛出現罷課、罷工、罷市之社會現象。請問此外交事件與哪一場國際會議有關？
- (A) 華盛頓會議 (B) 開羅會議 (C) 雅爾達會議 (D) 巴黎和會

26. 從地理位置而言，土耳其橫跨歐亞大陸，居於東西文明交會之處，深受多元文化交織互動。請問土耳其地區曾受哪些帝國統治，成為其版圖的一部分？
- 甲、元帝國  
乙、鄂圖曼帝國  
丙、亞歷山大帝國  
丁、拜占庭帝國
- (A) 甲、乙、丙 (B) 乙、丙、丁 (C) 甲、乙、丁 (D) 甲、丙、丁
27. 翻閱雷震的著作，發現他曾寫下「○先生與中華民國憲法—中華民國憲法制定經過的回憶」，○先生被譽為中華民國憲法之父，曾參與中國民主社會黨的創設。請問○先生為何人？
- (A) 張君勱 (B) 殷海光 (C) 羅隆基 (D) 章伯鈞
28. 17 世紀清康熙年間，由於福建城內發生火藥庫爆炸事件，導致庫存硫磺遭損，官方派員前來臺灣採硫。該員抵達臺南後，行走陸路北上採硫目的地時，途經許多原住民番社，故為當時的臺灣原住民社會，留下重要歷史紀錄。請問該員為何人？其留下的歷史材料為何？
- (A) 伊能嘉矩；《臺灣蕃政志》  
(B) 黃叔瓚；〈番俗六考〉  
(C) 六十七；〈番社采風圖〉  
(D) 郁永河；《裨海紀遊》
29. 有位日本人的口述訪問紀錄談及家族曾經前往某地區生活的回憶。文中憶及：「1932 年 3 月 ○國建立，當時有各式各樣的大規模宣傳，周圍經常有人說『去紅色夕陽下的○』」。又回憶起：「在大連生活兩年後，因父親工作緣故，全家一起搬到新京。……大約一年後，父親在新京找到謀生之道。那時他深覺○國已建立，且正朝向快速蓬勃之途，應前往首都新京發展才對，因那裡正開始大規模地城市規劃。」請問此位日本人憶及的○國應為何者？
- (A) 臺灣民主國 (B) 滿刺加國 (C) 滿洲國 (D) 琉球國
30. 日記史料為從事歷史研究時的重要材料，請問若欲研究 1920 年代的臺灣歷史，哪份日記最為貼近當時的紀錄？
- (A) 駐臺南日本兵日記 (B) 田健治郎日記 (C) 郭淑姿日記 (D) 葉盛吉日記
31. 請問 19 世紀時，非洲國家紛紛淪為歐洲列強的殖民地，只有兩個國家除外。其中某個國家，從美國來的黑人移民落腳於此，後來成為獨立國家，與美國關係深厚。請問此為哪一個國家？
- (A) 阿爾及利亞 (B) 賴比瑞亞 (C) 南非 (D) 衣索比亞
32. 日治時代，臺灣總督府為解決北部地區工業與民生用電需求，於 1905 年在臺灣北部地區的山區興建一座利用河川落差發電的設施，成為臺灣最早投入商業運轉的水力發電廠，也開啟了臺灣近代電力事業的發展序幕。請問這座發電設施為何者？
- (A) 小粗坑發電所 (B) 天送埤發電所 (C) 三角埔發電所 (D) 龜山發電所
33. 清代某地方志記載一項大型水利工程的修築過程：「乾隆年間，墾戶郭氏欲引青潭之水灌溉，然因地處番界，原住民出沒無常，工程艱鉅。郭氏乃與大平林莊墾首協議，由郭氏提供資金，換取大平林墾戶協助防禦，並將青潭水源優先讓與大平林。郭氏則另覓途徑，跨越景美溪，修築『木笕』將水引至「○○」，方便該地荒埔變為良田。」請問，這段描述中的○○應填入下列哪個堡里名？
- (A) 興直 (B) 擺接 (C) 大加蚋 (D) 海山

34. 拿破崙於 19 世紀初入侵伊比利半島，引發歐洲政局劇變，連帶動搖西班牙在美洲的殖民統治。當時，南美洲一位出身貴族地主階層的軍事領袖，目睹宗主國政治癱瘓、啟蒙思想廣泛流傳，遂於 1810 年代起兵，提出「大哥倫比亞共和國」的構想，歷經數場關鍵戰役。其中在 1819 年的博亞卡戰役中，成功驅逐西班牙軍隊，並主導多個鄰近地區相繼獨立。此一領袖首先領導獨立的地區，亦是他的故鄉，是現在的哪一個國家？  
(A) 委內瑞拉 (B) 玻利維亞 (C) 墨西哥 (D) 阿根廷
35. 1970 年代，一批臺大學生在教授帶領下，於淡水河流域臺地邊緣進行考古發掘，出土大量繩紋陶片、磨製石器及少量打製石器，被判定為新石器時代晚期重要的文化遺跡。由於該遺址緊鄰現代市區，周邊開發壓力龐大，部分遺址範圍已遭建築覆蓋，保存面臨嚴峻挑戰。此外，遺址附近設有展示館供民眾參觀，是大臺北地區重要的史前文化教育場所。請問該考古遺址為何？  
(A) 尖山遺址 (B) 龍門舊社遺址 (C) 十三行遺址 (D) 圓山遺址
36. 清廷在臺灣推行的「開山撫番」政策，官兵在東部地區因勞役不公、土地侵佔及糧餉問題，與當地原住民發生嚴重衝突。1878 年，噶瑪蘭族與撒奇萊雅族聯合發起了抗清行動，最終遭到清軍強力鎮壓，導致撒奇萊雅族被迫隱匿於阿美族部落長達百年。請問這場事件為何？  
(A) 獅頭社事件 (B) 加禮宛事件 (C) 大嵙崁社事件 (D) 大港口事件
37. 臺灣民主化進程涉及一系列憲政制度的重大變革。下列四項事件均為臺灣民主轉型的里程碑：  
【甲】《動員戡亂時期臨時條款》廢止，動員戡亂時期宣告終止  
【乙】第二屆立法委員全面改選，終結萬年國會局面  
【丙】《戒嚴令》解除，臺灣本島及澎湖群島解除戒嚴  
【丁】首次總統直接民選，由人民直接投票選出正副總統  
請依發生時間先後順序排列：  
(A) 丙→甲→乙→丁 (B) 甲→丙→丁→乙  
(C) 丙→乙→甲→丁 (D) 甲→乙→丙→丁
38. 以下為中國近代某一個對外條約的節錄：「中國國家應允由諸國分應主辦，會同酌定數處留兵駐守，以保京師至海通道無斷絕之虞……中國國家應允將大沽砲臺及有礙京師至海通道各砲臺，一律削平……懲辦傷害諸國國家及人民之首禍各員……賠償各國國家及人民損失，共庫平銀四萬五千萬兩。」請問此條約簽訂的直接背景是下列哪一場戰爭？  
(A) 鴉片戰爭 (B) 清法戰爭 (C) 八國聯軍 (D) 甲午戰爭
39. 在羅馬帝國緩慢衰落的進程中，4 世紀末是一個關鍵的轉折點。當時有一位皇帝透過武力與外交手段，成功壓制了哥德人的入侵，並在任內廢除了古代奧林匹克運動會，象徵古典時代的終結與中世紀序幕的開啟。這位最後一位統治過全羅馬疆域的皇帝，為下列何人？  
(A) 君士坦丁大帝 (B) 戴克里先 (C) 瓦倫斯 (D) 狄奧多西一世
40. 「有一位蘇格蘭籍長老教會傳教士，1871 年抵臺後深耕南部。他創辦臺灣首座盲人學校，引進點字系統，為特殊教育先驅。他也編纂了《廈門音新字典》，以羅馬拼音整理閩南語詞彙，並且編譯《荷蘭統治下的福爾摩沙》，奠定荷治史研究基礎。此外，他亦致力於推動以白話字研讀聖經。」根據上述描述，這位傳教士是誰？  
(A) 巴克禮 (B) 甘為霖 (C) 馬雅各 (D) 馬偕



41. 19 世紀的美國在「昭昭天命」思想的驅動下，積極向西部擴張領土。美國在這一時期透過購買、戰爭與條約等多種手段，將版圖從大西洋沿岸延伸至太平洋岸。下列關於美國 19 世紀領土擴張的敘述，何者正確？

- (A) 美國以武力從西班牙手中奪取佛羅里達，迫使西班牙放棄對該地區的主權主張
- (B) 傑佛遜總統任內，美國透過「路易斯安那購地」從法國手中取得中部大片土地
- (C) 德克薩斯州原為英國殖民地，在美墨戰爭結束後，美國才將其併入版圖
- (D) 美國以門羅主義為名，出兵墨西哥奪取加利福尼亞，將其直接劃為聯邦直轄領地

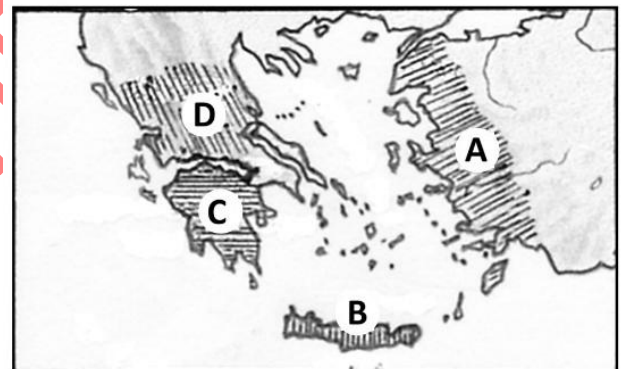
42. 阿契美尼德王朝是古代世界規模最龐大的帝國之一，其版圖橫跨西亞、中亞、埃及與印度西北部。為有效治理如此遼闊且族群多元的領土，歷代波斯王發展出一套獨特的行政制度。下列關於該政權統治制度的敘述，何者正確？

- (A) 帝國採取高度中央集權制，所有行省事務直接由波斯王裁決，不設地方長官
- (B) 波斯王居魯士二世以武力強制同化被征服民族，全面廢除當地語言、宗教與習俗
- (C) 帝國設置行省制，由總督治理各省，並派遣官員巡察監督，防止地方坐大
- (D) 帝國官方語言統一使用希臘語，以利與地中海世界各族群溝通往來

43. 明代中後期，許多士大夫參與編纂日用類書籍。弘治年間，進士鄭璠以《耕織圖》為藍本，編撰《便民圖纂》一書，記述蘇南一帶農村日常生活及農事活動。其內容龐雜，記錄農藝、園藝、養畜等技術和飲食器用方面的知識。這本《便民圖纂》的出現，展現了什樣時代特色？

- (A) 心學的盛行，推動知識分子關注民間實用學問
- (B) 印刷技術的突破，使知識得以大規模向民間傳播
- (C) 士大夫階層開始突破傳統「重義輕利」的觀念
- (D) 物質經濟的發展，促使士大夫關注社會實用知識

44. 一位西方考古學家的田野調查記錄描述：「本遺址考古挖掘出土了大量以「線形文字 A」刻寫的泥板，以及壁畫、陶器與精緻雙斧等祭祀器物。遺址核心為一座規模宏大的宮殿建築群，內部廊道迂迴曲折，後世神話將此地與牛頭人身的米諾陶及工匠代達羅斯所建的迷宮相互連結。」根據記錄中的特徵，這處遺址最接近「右圖」上的哪一個標記點？



- (A) A (B) B (C) C (D) D

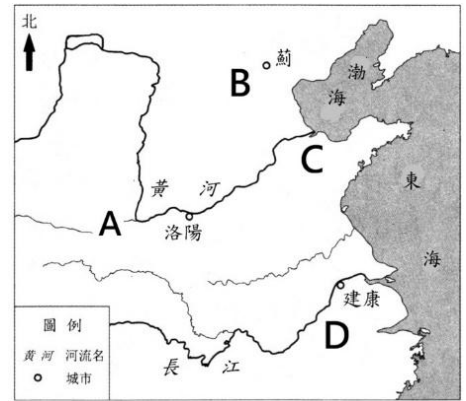
45. 以下是一位西方記者在 1960 年代末期發表的戰地觀察報導節錄：「我站在這片土地的邊境，望著對岸叢林深處升起的炊煙。當地居民告訴我，山那頭的村子三天前換了一批不知哪裡來的士兵，沒有人知道他們是哪個政府派來的。這個國家夾在幾個大國之間，王室政府試圖宣示中立，卻像一艘在激流中漂行的小船——北邊是中國支持的共產黨游擊隊滲透，南邊是美軍顧問活動的蹤跡，東邊的戰火已經延燒多年。就在去年，美國飛機在這裡投下的炸彈，已悄悄超越了整個二戰期間盟軍轟炸德國的總量，但在大多數美國人的新聞裡，這個國家幾乎是隱形的。」根據報導內容的線索，這位記者最可能身處哪個國家？

- (A) 越南 (B) 寮國 (C) 馬來西亞 (D) 緬甸

46. 西元前 5 世紀的「波希戰爭」不僅影響了希臘城邦的政治走向，更深刻形塑了後世對東西方文明對立的歷史想像。下列關於這場戰爭的敘述，何者正確？
- (A) 薩拉米斯海戰中，希臘聯合艦隊在狹窄海峽以靈活戰術擊潰波斯，成為戰爭的轉折
  - (B) 馬拉松戰役中，雅典與斯巴達聯軍共同擊退大流士一世入侵，奠定希臘聯盟的基礎
  - (C) 波希戰爭最終以波斯攻陷雅典、摧毀帕德嫩神廟告終，希臘城邦淪為帝國屬地
  - (D) 溫泉關戰役中，雅典將軍地米斯托克利率三百勇士阻擋大軍，為希臘爭取撤退時間
47. 古希臘文明以「城邦」為基本政治單位，各城邦在制度與文化上發展出不同的風貌。西元前 5 世紀，雅典在伯里克利執政期間，民主政治達到鼎盛。下列關於古希臘城邦政治的敘述，何者正確？
- (A) 雅典民主政治賦予城邦內所有居民平等的參政權，包含婦女、奴隸與外邦人
  - (B) 斯巴達以直接民主著稱，設有公民大會，由全體公民投票決定一切公共事務
  - (C) 梭倫改革廢除了雅典所有階級區分，確立了以財富為基礎的完全平等公民制度
  - (D) 伯里克利時代的雅典實行直接民主，以公民大會為最高權力機構，設有陶片放逐制
48. 以下為兩位歷史學者對清帝國統治臺灣的研究觀點：
- 【學者甲】清代治臺政策並非如傳統認為「帝國漠視邊疆」，而是清廷在戰略考量、稅收來源與成本控制之間權衡的結果。清廷依據財政與行政等現實考量，在各項政策上作出效益計算，展現出帝國治理的理性。
- 【學者乙】國家理性制度固然存在，但在政治作為中，清廷更懂得利用生番、熟番、漢人之間的族群差異，透過「三層式族群空間體制」進行隔離、操弄分類矛盾。這種「以權害經」的治理方針，反促使了林爽文事件等難以收拾的動亂，顯示國家理性不必然帶來理想成果。
- 根據上述兩位學者的論點，下列敘述何者最為正確？
- (A) 學者甲否定制度規劃，認為治臺政策純屬偶發應變，且缺乏長遠戰略思維
  - (B) 學者乙拒絕「國家理性」概念，主張清廷統治純屬族群壓迫，無制度考量
  - (C) 兩者均認同治理具「理性」，但學者乙強調操弄族群矛盾會產生反效果
  - (D) 兩者研究取徑完全相同，皆以族群空間為核心，僅在研究的時間斷限有別
49. 日治時期臺灣農業存在「米糖相剋」現象，以下關於此一現象的描述，何者正確？
- (A) 嘉南大圳完工後農民可自由選種，導致製糖會社競爭失利並撤出嘉南平原
  - (B) 製糖會社以高於市場的公定價收購，吸引農民放棄米作，導致稻米產量萎縮
  - (C) 當米價相對高於糖價時，農民傾向改種水稻，進而壓縮製糖會社的原料來源
  - (D) 總督府強制規定各州廳米、蔗種植比例，以公權力確保兩類作物產量均衡
50. 一位學者從某一文獻中讀到了這樣的內容：「臺灣中部某一平埔族社群的頭目，與鄰近漢人墾戶發生土地糾紛，雙方就番租繳納與土地界址問題往返交涉，留下多份以漢文書寫的契約與書信。」文中可見該社群如何在漢人移墾壓力下，透過官方與民間管道維護自身土地權益。請問這份文獻最可能是哪一項史料？
- (A) 《岸裡大社文書》
  - (B) 《熱蘭遮城日誌》
  - (C) 《淡新檔案》
  - (D) 《臺灣總督府警察沿革志》

51. 《史記·貨殖列傳》中，描述當時某地區「地廣人稀，飯稻羹魚，或火耕而水耨」，土地廣袤卻人口稀薄。但到了南北朝時期，這個區域卻是「民多田少」。請問，這個地區對應為右圖的何處？

(A) A (B) B (C) C (D) D



52. 19 世紀末「瓜分非洲」浪潮中，非洲的索馬利亞半島因扼守蘇伊士運河航線成為戰略要地。現今索馬利蘭在 1884 至 1886 年間成為某國保護國，1960 年與南方的義屬索馬利亞合併，1991 年因內戰再度宣告獨立。關於西方列強在該半島的競逐，下列敘述何者正確？

(A) 德國依據柏林會議取得西北部，修築鐵路連結衣索比亞，成為索馬利亞地區主要勢力  
(B) 法國取得西北部控制權，其法國屬地於 1960 年與義屬區合併組成索馬利亞共和國  
(C) 英國為保障亞丁港與航線安全，於 1880 年代建立英國屬地，防堵法、義勢力擴張  
(D) 義大利於 19 世紀末控制南部與西北部，但因戰爭慘敗而被迫將西北部割讓給英國

53. 2026 年 4 月間，英國國王查爾斯三世訪問美國，在白宮國宴上回應川普此前「若無美國援助，歐洲人現在就得說德語」的言論，笑稱：「如果不是我們，你們現在會講法語。」關於英國國王開此一玩笑的歷史典故，下列敘述何者正確？

(A) 17 世紀的九年戰爭中，英國奪取法國勢力區域，導致北美殖民地走向英語化  
(B) 英國於 18 世紀的七年戰爭擊敗法國，簽署條約使法國撤出密西西比河以東，確立英語在北美的優勢  
(C) 英國為報復法美結盟，在拿破崙戰爭後強行接收法國售予美國的路易斯安那，並在當地推行英語教育，消弭法語文化  
(D) 美國獨立戰爭期間，英國雖因西班牙王位繼承戰奪取紐奧良，阻斷法語區北移

54. 18 世紀一位歐洲外交官在某場戰爭結束後言道：「俄羅斯的擴張使我們憂慮不已。它已不再是一個內陸封閉的國家，而是一支隨時能在地中海現身的力量。黑海不再是土耳其人的內海，克里米亞也不再是帝國的屏障。」請問此次俄國擴張，對歐洲國際局勢造成的最主要影響為何？

(A) 俄羅斯稱霸波羅的海，威脅普魯士與瑞典的貿易利益，導致三國同盟瓦解  
(B) 鄂圖曼帝國喪失了黑海控制權，俄羅斯得以南進地中海  
(C) 俄羅斯稱霸全歐，迫使法、奧結盟遏制其西進  
(D) 英國為護衛印度航線，與俄羅斯締盟，共同瓜分鄂圖曼帝國的巴爾幹領土

55. 每年農曆四月最後一天至五月初一，新北市某地會舉行盛大的「大拜拜」，活動包含「暗訪」與「日巡」，意在驅除瘟疫、掃除不祥。此祭典不僅是當地重要的無形文化資產，更是臺灣著名陣頭「官將首」的發源地，其主祀神明「文武大眾爺」被認為具有裁決陰陽冤屈、找尋失物的功能。若學校老師想規劃一場參與該盛事的考察之旅，應前往下列何處？

(A) 大坪林顯應祖師廟 (B) 三峽長福巖 (C) 新莊地藏庵 (D) 烘爐地福德宮



56. 清代文獻《東槎紀略》曾記載一套土地拓墾模式，內容提及：「合數十佃為一結，通力合作……名曰小結首；合數十小結中舉一公正服眾者……名曰大結首。」過去曾有學者因史料中出現「蘭人之法」而誤解其為荷蘭人所創，但今日史學界已釐清該制度的真實背景。請問這套土地拓墾制度為何者？
- (A) 清代蘭陽平原的民間武裝拓墾組織
  - (B) 明鄭時期的軍屯制度
  - (C) 荷治時期的王田制度
  - (D) 清末劉銘傳時期的清賦改革
57. 一位歷史學者討論清朝統治性質，談道：「清朝並非一個被漢化的王朝，而是一個刻意保持滿洲認同的征服王朝。皇帝以滿語與蒙古旗人溝通，以藏傳佛教拉攏蒙藏貴族，對不同族群採取不同的統治語言與儀式，展現其多元帝國的本質。若僅以漢文史料詮釋清史，將無可避免地遮蔽這個帝國的真實面貌。」請問此觀點最能代表下列哪一流派的核心主張？
- (A) 漢化論 (B) 新清史 (C) 後殖民史學 (D) 年鑑學派
58. 唐僧玄奘西行求法，其見聞錄於《大唐西域記》，其中描述那爛陀寺學風鼎盛，並稱頌「戒日王」深崇佛法、廣建伽藍。玄奘法師曾在該寺研習五年，見證了當時印度政教盛況。根據歷史情境，下列敘述何者正確？
- (A) 玄奘抵達時正值笈多王朝鼎盛，因官方奉婆羅門教，使其求學屢遭官方阻撓
  - (B) 那爛陀寺位於南印德干高原，玄奘求法重心在印度南部的王家寺院
  - (C) 玄奘歸國後促使唐太宗立佛教為國教，隨後大唐與戒日王朝締結盟約
  - (D) 戒日王統一恆河後，崇信佛法且護持那爛陀寺，唯其死後帝國瓦解，北印重陷分裂
59. 下列為某一歷史學者對一份國際條約的評論：「這份條約不僅終結了一場長達數十年、捲入歐洲多國的大規模衝突，更在法理上確立了一項劃時代的原則：各政治實體在其領土範圍內享有排他性的最高統治權，外部勢力無權以宗教或其他理由干涉他國內政。這一原則後來成為近現代國際秩序的基石。」根據上述評論，該學者所描述的條約最可能是下列何者？
- (A) 西發利亞和約 (B) 沙拉哥薩條約 (C) 烏特列支和約 (D) 尼斯塔德和約
60. 語言與考古學界多視臺灣為南島語族的「原鄉」。約五、六千年前，南島祖先從臺灣出發向太平洋擴散，使臺灣原住民保有最古老、多元的語言與文化層次。關於臺灣與太平洋南島文化共通性的敘述，下列何者正確？
- (A) 臺灣原民語言高度統一，屬單一支系；且馬達加斯加語因語彙與臺灣最接近，被視為由臺灣直接移出的後裔語言
  - (B) 近年 DNA 研究挑戰了出臺灣說，指出南島語族基因源於中南半島，學界目前廢棄了臺灣為南島語族擴散起源地的理論
  - (C) 雙方最顯著共通點為雙體帆船技術，如排灣、阿美族至今仍保有與夏威夷、毛利族完全相同的造船傳統
  - (D) 拉匹塔文化陶器的幾何紋飾與臺灣新石器工藝相似，被視為南島語族擴張的中繼站，是玻里尼西亞等族的共同祖先



61. 阿德想要了解近代中國憲政發展的歷史，於是蒐集了一些陳述，打算向老師請教。請問下列描述及其時代，何者完全正確？
- (A) 1908 年，《欽定憲法大綱》仿效德意志帝國的俾斯麥憲法，規定臣民享有言論、集會等基本權利
  - (B) 1912 年，《中華民國臨時約法》為限制袁世凱權力，將總統制改為責任內閣制，行政權移往國務院，成為日後府院之爭與毀法亂政的根源
  - (C) 1936 年，「五五憲草」頒布後，國民政府隨即召開國民大會通過憲法，宣告完成從訓政到憲政的過渡，僅因抗戰爆發才導致憲法實施中斷
  - (D) 1949 年，《共同綱領》具臨時憲法地位，宣示中華人民共和國為社會主義國家，並確立無產階級專政，直至 1954 年正式憲法頒布方廢止
62. 于右任先生曾收藏過一批墓誌石刻，其中有七對夫妻合葬墓的碑石。內容描述有「其先出自有魏。自景後之餘，神元之慶，道武席卷中原，拓拔開基……」、「魏故使持節鎮冀定三州諸軍事……任城王元君之墓誌銘」、「君諱顯雋，河南洛陽人也。其先出自黃帝之苗裔……」等。請問，關於這批石刻史料的時代以及敘述，何者正確？
- (A) 東漢末：道武指曹操，任城王為曹植，反映曹魏攀附黃帝的正統宣傳
  - (B) 西晉：道武指晉武帝，任城王為晉室封號，反映西晉以洛陽為都的格局
  - (C) 北魏：道武為拓跋廟諡，反映孝文帝遷都漢化與鮮卑改籍洛陽
  - (D) 唐代：內容為追述前朝，反映武則天以洛陽為神都後官員改籍現象
63. 有一位日本人因醫藥背景來到臺灣發展，長期擔任《臺灣日日新報》漢文部主筆。他對臺灣歷史、金石考證及古物鑑定有極深造詣，曾受聘為總督府史料編纂委員會委員，並深度參與「史蹟名勝天然紀念物」的調查與保存工作。他對鄭成功及其家族的研究尤為權威，其大量的私人文獻收藏至今仍是臺灣史研究的重要資產。請問這位學者是誰？
- (A) 伊能嘉矩 (B) 岡松參太郎 (C) 尾崎秀真 (D) 國分直一
64. 太平洋戰爭期間，臺灣作為日本帝國的南方基地，大批青年被動員投入戰場，足跡遍及東南亞與太平洋，留下深刻的戰爭記憶與身分困境。關於臺籍日本兵的歷史，下列敘述何者正確？
- (A) 皇民化時期採全面徵兵制，強制本島男性入伍，且享有與內地軍人平等機會
  - (B) 總督府採志願制，未實施徵兵。本島人以軍屬身分從事後勤與翻譯，禁止前線戰鬥
  - (C) 戰後獲日本政府撫卹年金，並由中華民國政府給予國軍同等的補償安置
  - (D) 戰後少數臺人滯留東南亞，有人選擇投入印尼獨立戰爭對抗荷蘭
65. 19 世紀中葉，隨著奴隸制度的廢除，歐洲殖民者轉向亞洲尋求契約勞工。某位觀察家在其報告中寫道：「這些被稱為『豬仔』的華工從澳門登船，經過數月的海上航行，抵達後被送往乾燥的沿海島嶼，在烈日下從事極其艱苦的『鳥糞石』採掘工作，或是被投入到山地鐵路修築工程中，死亡率高達三分之一。」請問，這段敘述最可能是指哪一個國家的華工處境？
- (A) 秘魯 (B) 古巴 (C) 蓋亞那 (D) 巴西
66. 英國圈地運動自 15 世紀末起逐漸展開，地主大規模將原本供農民公共使用的土地圍起，改作其他用途。請問以下何者是推動早期圈地運動的主要背景原因？
- (A) 工業革命帶動城市人口激增，地主將農地改建為工廠與住宅以獲取更高租金
  - (B) 英國國教改革後，教會土地遭政府沒收並重新分配給貴族，引發大規模土地兼併
  - (C) 黑死病過後人口快速恢復，地主為供應糧食需求，大規模整併土地提升農業產量
  - (D) 毛織品貿易興盛使羊毛價格上漲，地主將耕地改為牧羊場以獲取更高利潤

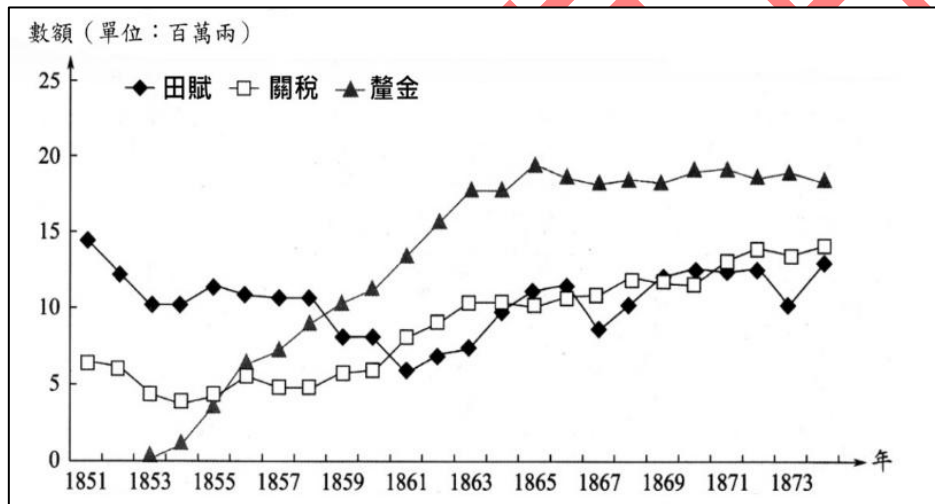
67. 一份伊斯蘭史料記載某種特殊的軍事制度：「徵集約一千名異教徒孩子，教以紀律、訓練成人……這些勇士戰技純熟，因勞苦功高，可晉升到卓越的等級。」關於這段史料所描述的政權，及其主要指涉的異教徒，下列敘述何者正確？

- (A) 鄂圖曼帝國；「異教徒」指巴爾幹半島的基督教徒
- (B) 莫臥兒帝國；「異教徒」指印度境內的印度教徒
- (C) 薩法維帝國；「異教徒」指中亞地區的遜尼派穆斯林
- (D) 阿拔斯帝國；「異教徒」指波斯地區的瑣羅亞斯德教徒

68. 清代臺灣建省後，劉銘傳推動土地清丈與釐金制度，對各產業造成不同程度的衝擊。平地農業須承擔較重的土地稅，國際市場競爭激烈又難以轉嫁成本。相較之下，山區農作物稅賦較輕，且外銷需求穩定者，則得以持續擴張。請問在上述財政改革的背景下，哪項產業因生產環境與市場競爭的雙重不利，在各主要出口產業中處於相對劣勢？

- (A) 樟腦 (B) 烏龍茶 (C) 砂糖 (D) 煤炭

69. 下圖反映了清政府於 1851 至 1874 年間，田賦、關稅、釐金三項收入的變化趨勢。下列對釐金收入變化的分析，何者最為正確？



- (A) 釐金為清廷原有稅制，隨人口增長而自然增加，與政治局勢無關
- (B) 釐金源於鎮壓內亂的需求，迫使清廷調整財政結構，其重要性漸超越田賦
- (C) 釐金的增長主要因列強開放通商口岸，刺激國內商品流通所致
- (D) 釐金收入在太平天國覆滅後隨即下滑，說明其為臨時財政措施，平定後即遭廢除

70. 淡水紅毛城見證了臺灣多個政權的更迭。關於其歷史沿革，下列敘述何者正確？

- (A) 由荷蘭首建，並以總督之名命為聖薩爾瓦多城，因荷蘭人被稱為紅毛而沿用至今
- (B) 由西班牙人首建的聖多明哥城，後來遭荷蘭人驅逐後，重建為安東尼堡
- (C) 英國承租後設領事法庭，日治時期英國主動將此城移交總督府，換取在華商業利益
- (D) 二戰後英方與國府簽約繼續作領事館，至 1970 年代英國無償移交給中華民國