

# 新北市立國民中學 115 學年度教師聯合甄選

## 公民與社會科試題

考生作答說明：

- 一、 請先檢視答案卡科目、准考證號碼是否相符？如果不符，請立即向監試人員反映。
- 二、 本試題計有：選擇題 70 題。
- 三、 題目如涉及計算，禁止使用電子計算功能設備運算。
- 四、 答案卡請使用黑色 2B 鉛筆畫記作答，禁止使用立可白塗改，以免無法判讀。
- 五、 答案卡與試題卷須一起繳交，始可離開試場。
- 六、 請務必於試題封面填上准考證號碼。

准考證號碼：\_\_\_\_\_

新開知世界

1. 根據標籤理論 (Labeling Theory)，下列哪一個情境最能體現個體在社會壓力下「內化了負面身分」並產生「次級偏差」？
  - (A) 小明因一次偶發的深夜未歸被父母嚴厲指責為「沒救的叛逆份子」，在鄰里耳語與不信任的壓力下，他逐漸認同自己是不折不扣的壞孩子，進而決定徹底放棄學業並加入非法組織
  - (B) 小文乞討的生存本能被界定為犯罪，因某國政府制定嚴格的《都市空間管理法》，針對無家可歸者的乞討行為進行重罰
  - (C) 小莉自幼與家人感情疏離，在學校也缺乏親密的同儕關係，因為對社會缺乏依附感與參與感，使她在面臨毒品誘惑時，因覺得沒什麼好失去的而墮落
  - (D) 小強從小看著父親與鄰里長輩透過收保護費獲取利益，在長期觀察與耳濡目染下，他習得了與人鬥毆的技巧，並認為暴力是解決問題最直接且受人尊敬的方式
2. 小明生長在貧困家庭，深受社會普遍推崇的「功成名就、家財萬貫」價值觀影響，極度渴求翻身致富。然而，由於受教育機會不平等，小明缺乏進入高薪產業的學歷與技術。在多次面試失敗後，他認為循規蹈矩的工作根本無法讓他達成買房買車的目標，轉而決定加入跨國詐騙集團擔任機房幹部，試圖以此快速累積財富。根據莫頓 (Robert Merton) 的緊張理論，小明的偏差行為屬於下列哪一種適應類型？
  - (A) 儀式主義
  - (B) 退縮主義
  - (C) 叛逆
  - (D) 創新
3. 一群青少年以誇張髮型、改造制服、街頭塗鴉與音樂表演來表達自我，並透過社群媒體發布作品，引發社會上對「偏差」與「創意」的不同評價。根據文化研究中「伯明罕學派」的觀點，下列敘述何者錯誤？
  - (A) 此類青年文化可被視為一種次文化實踐，反映特定群體對主流文化的回應
  - (B) 此類行為主要反映了青少年因社會規範瓦解而產生的「迷亂」，是社會失序且缺乏約束力的表現
  - (C) 伯明罕學派會關注這些文化表現如何涉及權力、階級與社會控制
  - (D) 伯明罕學派認為流行文化不只是娛樂，也可能成為抵抗、協商與認同建構的場域
4. 小美與阿強是一對均在科技公司上班的雙薪夫妻，職位與收入旗鼓相當。然而，下班回到家後，阿強通常習慣先坐在沙發上休息並瀏覽社交媒體，而小美則忙著收衣服、準備晚餐並督促孩子寫作業。當小美表示疲累時，阿強卻認為：「我有幫忙倒垃圾，且假日也有開車載全家出遊，家事本來就是有餘力的人互相幫忙。」關於上述情境所反映出的社會學現象，下列敘述何者最適當？
  - (A) 家務勞動因為不具備市場交易性質，且不產生剩餘價值，在社會學上不被視為正式的勞動形式
  - (B) 阿強負責開車與倒垃圾，小美負責煮飯與教養，此種互補分工符合結構功能論對「工具性角色」的期待
  - (C) 根據資源議價觀點，小美承擔較多家務是因為其在職場的經濟產值不夠高，導致家庭內部議價權較弱
  - (D) 小美的處境反映了「第二輪班」的困境，顯示即便女性進入職場，傳統性別角色的期待仍主導家務分配

5. 許多年輕人擁有頂尖大學碩士學位（高教育程度），卻因產業轉型與 AI 自動化，僅能從事缺乏保障的自由接案或低薪服務工作（低收入）。若從社會學家韋伯（Max Weber）對社會地位的多元分析觀點來看，這種「高學歷、低收入」的現象，最適當的學術描述為何？
- (A) 先賦身分已全面取代成就身分，成為決定個人在數位時代社會地位的唯一關鍵因素
- (B) 此為地位不一致現象，說明個人在財富、聲望或權力等不同維度的社會位階中，並未處於對等的層次
- (C) 此種地位變動能有效促進社會流動，因為它打破了專業證照與社會經濟回饋之間的絕對連結
- (D) 這說明了聲望與財富在現代社會中已完全合一
6. 選舉將至，某校公民社團學生在通訊軟體的家庭群組中，看到一張被大量轉傳的圖卡。圖卡內容宣稱：「【重大修正】為防範選舉舞弊，中選會規定本次投票須加帶『數位身分驗證碼』，若無此碼，即便帶身分證也無法領票，請務必轉傳給家中長輩以免權益受損！」針對上述情境，若要發揮公民的「媒體識讀」素養，下列哪一項行動最正確？
- (A) 基於守護長輩投票權的熱忱，應秉持「寧信其有」的原則，優先將圖卡分享至更多社群管道
- (B) 根據圖卡視覺設計的专业度與該訊息被「多次轉傳」的標記，推論此訊息應具備高度真實性
- (C) 運用「交叉驗證」方法，前往中央選舉委員會官網核對法規，並確認該資訊有無官方出處
- (D) 採取「數位排毒」策略，為了確保選舉的中立性與客觀性，對於所有選舉相關資訊應一律採取不接觸、不評論的態度
7. 學者阿蒙（Almond）與沃巴（Verba）將政治文化分為「地域型」、「臣屬型」、「參與型」。近年台灣青年大量使用社群媒體監督政治、主動投書媒體、參與公聽會，最接近哪一種政治文化型態？
- (A) 地域型：公民對整體政治系統幾乎無認知，關注焦點僅在地方事務
- (B) 參與型：公民對政治系統有高度認知，且主動投入輸入，積極監督制衡
- (C) 臣屬型：公民知道政治系統存在，但只接受政府的輸出（服從），不主動投入
- (D) 混合型：台灣兼具臣屬型與參與型，無法單一歸類



8. 下列四種情況中，人民服從的原因各不相同：

- ① 民眾服從法官判決，主要因其職位與法定程序所賦予的正當性。
- ② 某宗教領袖的號召力，主要來自追隨者相信其具有非凡使命或特殊感召力。
- ③ 某部落長老之所以被尊為決策者，主要是因為長久流傳的習俗與世代傳承。
- ④ 某犯罪集團以暴力威脅店家繳交保護費。

依韋伯（Max Weber）的權威分類與政治學對權力的理解，下列判斷何者最正確？

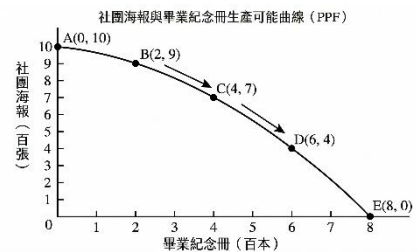
- (A) ①屬傳統型權威，②屬法理型權威，③屬魅力型權威，④屬合法權威
- (B) ①屬法理型權威，②屬魅力型權威，③屬傳統型權威，④屬權力但非正當權威
- (C) ①與④都屬法理型權威，②與③都屬魅力型權威
- (D) ①至④都屬正當權威，只是來源不同



9. 國際智庫發布報告警告：由於甲國處於地緣政治競爭的核心地帶，乙國為試圖干預其政治，於是利用甲國社會的多元言論空間，散布關於經濟崩潰的虛假訊息。針對此種地緣政治干預手段，下列敘述何者最正確？
- (A) 這種做法屬於「軟實力」的範疇，旨在提升甲國人民對該乙國文化的認同
  - (B) 這是運用「硬實力」的具體展現，透過經濟制裁與軍事圍堵迫使人民做出特定選擇
  - (C) 該手段具備「銳實力」的特徵，目的是破壞受干預國家的社會信任與民主程序
  - (D) 此現象符合「功能主義」的預測，強調透過非政治領域的資訊交流，最終將達成區域的和平統合
10. 某校校長以校務公告規定：凡學生在校園內使用手機，一律沒收至學期末，且未設申訴程序。學生家長質疑此規定過度限制學生財產權與受教權。若從法律基本原則判斷，下列何者最適合作為家長主張的核心依據？
- (A) 法律保留原則：限制人民重要權利，原則上應有法律或明確授權依據
  - (B) 法律不溯及既往原則：新法不能任意回頭處罰過去行為
  - (C) 自力救濟原則：家長可自行進校取回手機，不受法律限制
  - (D) 習慣法優位原則：校園慣例必定優先於書面規定
11. 民主社會中，社會學家觀察到「參與缺口」現象：長期處於經濟弱勢的群體，雖然在法律上享有平等的投票權，但因需應對高工時、生存壓力與資源匱乏，使其難以參與政見發表會、議題聯署或地方審議會議。若從民主治理與政治參與理論分析，下列敘述何者最適當？
- (A) 制度上保障每位公民擁有平等的「對人投票權」，即已達成程序民主的要求，經濟條件的差異純屬個人競爭力之體現
  - (B) 根據「理型選擇理論」，經濟弱勢者不參與公共事務是基於成本效益後的最佳抉擇，政府應尊重其自主意願
  - (C) 當代民主強調「數位參與」，只要政府廣設公共網路資源與行動載具，即可消弭因社會經濟地位不對等所產生的參與落差
  - (D) 真正的民主參與不僅需要法律上的權利，更需具備物質與時間等實質資源，政府應落實社會權保障以充實公民參與公共生活的「能力」
12. 依據新修正施行之《兒童及少年性剝削防制條例》，政府加強對兒少性影像犯罪的打擊力度，某人主張：「我只是付費加入特定的網路私密群組，單純在線上觀看兒少性影像，既沒有下載儲存，也沒有將影像轉發或分享給他人，這種純屬個人收看的行為應該不具刑事不法性。」根據該法最新修正精神，下列判斷何者最正確？
- (A) 為了有效從源頭阻斷兒少性剝削產業鏈，法律已明定「支付對價觀覽」兒少性影像即構成犯罪，應負擔刑事責任
  - (B) 基於法律的「屬人主義」原則，若網站伺服器設在境外，國內法律即無法對單純觀看之使用者課以任何法律責任
  - (C) 法律對「持有」之認定必須具備實體或數位檔案之支配處分權，若僅透過線上串流而不具下載事實，則屬行政違規
  - (D) 刑事處罰應僅得針對拍攝與散布等供給端行為，單純觀看者僅需接受行政罰鍰及強制輔導，以符合「刑法謙抑性」原則

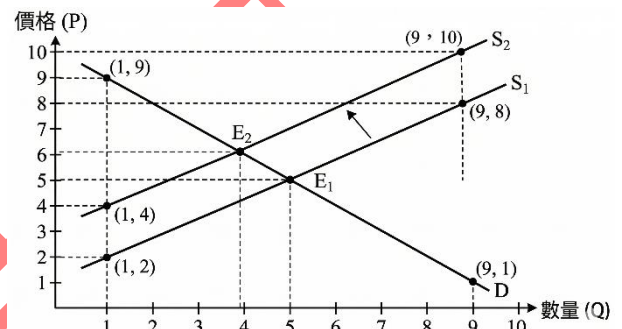
13. 有關經濟不平等對法治實踐的影響，依據現行《憲法》精神、司法院解釋及法律學理分析，下列關於「平等原則與社會階級」的敘述，何者錯誤？
- (A) 憲法所保障的平等權是「實質平等」，允許國家針對事物性質、社會背景的差異，對不同階級的群體給予合理的差別待遇
  - (B) 基於「法律面前人人平等」之絕對性，國家在制定裁罰標準時，不應考量受處罰者的貧富程度，否則將違反處罰的一致性原則
  - (C) 法律扶助制度的建立，是為了避免公民因經濟弱勢而失去受憲法保障的「訴訟權」，屬於國家落實平等原則的具體作為
  - (D) 國家針對低收入戶子女提供教育補助或入學優惠，其目的是為了消弭結構性的階級不平等，在法理上被視為一種「優惠性差別待遇」
14. 隨著零工經濟的普及，為保障勞工基本權益，政府於近年陸續修訂並發布相關勞動法規範。下列敘述何者錯誤？
- (A) 根據現行《最低工資法》，最低工資審議會審議新年度工資時，應參採消費者物價指數年增率，以確保基層勞工的購買力
  - (B) 勞工下班後若接獲雇主透過通訊軟體交辦工作，且該工作需即時處理者，勞工得核實計算加班時數，雇主則負有記載工時之義務
  - (C) 我國《勞動基準法》針對「一例一休」設有彈性調整空間，特定行業得經工會或勞資會議同意，於法令限制內實施二週或四週變形工時
  - (D) 凡是透過數位平台撮合勞務之提供者（如外送員），依現行法律均自動視為《勞動基準法》所保障之勞工，平台業者應無條件投保勞健保
15. 某高職三年級學生阿強（18 歲）與小明（17 歲）參加校方與餐飲業者合作的建教實習。依據《民法》及《建教合作實施及建教生權益保障法》相關規定，下列關於兩人實習期間權利義務的敘述，何者錯誤？
- (A) 若阿強在實習期間不慎摔碎昂貴器皿造成公司損失，其父母須依《民法》第 187 條負擔絕對的連帶賠償責任
  - (B) 小明因尚未成年，其簽署之建教合作契約除本人簽名外，原則上仍應經由其法定代理人（父母）書面同意，方能對小明發生效力
  - (C) 雖然建教生在身分認定上主要是「學生」而非「勞工」，但餐飲業者發給阿強與小明的生活津貼，數額不得低於現行《最低工資法》之規定
  - (D) 為了保障學生的受教權，法律規定建教生在公司實習的時間，連同在校上課時間，每週合計不得超過一定時數，且深夜時間不得安排實習
16. 某國中為強化校園安全與品格教育，擬修訂《學生獎懲實施要點》。在校務會議中，老師、學生代表及家長針對校園內的基本人權保障進行辯論。依據現行《教育基本法》、教育部相關準則及司法院解釋之意旨，下列關於學生權利之敘述，何者錯誤？
- (A) 根據司法院釋字第 784 號解釋，學生如認為學校之管教措施（如警告或記過）侵害其基本權利，不分情節輕重均得提起訴訟請求救濟
  - (B) 為了落實校園安全預防措施，學校行政人員須隨時且不定期抽查學生的私人物品或置物櫃，且不得進行全程錄影以保障學生隱私
  - (C) 學校得訂定學生服裝儀容規定，但對於違反規範之學生，應採取引導或輔導措施，不得以記過、警告或強制變更髮式等方式進行處罰
  - (D) 學校應保障學生的表意權，於召開與學生權利義務相關之會議（如學生獎懲委員會）時，應賦予學生代表參與討論與表達意見之機會

17. 某校印製中心在同一週內，只能利用既有設備與人力生產「畢業紀念冊」與「社團海報」。依據圖形所示的生產可能曲線，若學校從 B 點移到 C 點，再由 C 點移到 D 點，下列敘述何者正確？



- (A) 每增加 2 百本紀念冊，所放棄的海報數量固定不變，表示機會成本固定
- (B) 由 B 移到 C 所放棄的海報數量，小於由 C 移到 D 所放棄的海報數量，表示機會成本遞增
- (C) 當生產點位於生產可能曲線上，表示資源分配最公平
- (D) 除了 A 點與 E 點以外，其餘各點都表示資源未充分利用

18. 某市早餐店常用的原料價格上升，加上部分運輸成本增加，使廠商在每一個價格下願意供給的數量都減少。若消費者對該商品的需求未改變，依據圖形判斷，下列何者最可能正確？



- (A) 均衡價格上升，均衡數量減少
- (B) 均衡價格下降，均衡數量增加
- (C) 均衡價格上升，均衡數量增加
- (D) 均衡價格不變，均衡數量減少

19. 近年受到全球人工智慧硬體需求強勁及原物料成本上升影響，國內出現景氣過熱跡象，物價指數年增率連續數月超過警戒線。為防範通膨失控並穩定總體經濟，中央銀行計畫採取「緊縮性貨幣政策」。針對此項政策的操作，下列敘述何者最適當？

- (A) 中央銀行可透過在公開市場賣出政府債券，藉此回收市場流通資金，以抑制過熱的消費與投資需求
- (B) 政府應增加公共建設預算以提升產能，並透過降低個人綜合所得稅稅率，來減輕民眾因通膨造成的負擔
- (C) 中央銀行應調降金融機構的存款準備率，增加銀行可放款的資金額度，以支應產業轉型所需的資金動能
- (D) 為了維持經濟成長熱度，中央銀行可調降重貼現率，引導銀行業降低貸款利率，藉以刺激企業擴大資本支出

20. 擴大租金補貼政策持續受到討論。支持者認為可減輕青年與弱勢租屋負擔，反對者則擔心在租屋供給短期難以增加的情況下，補貼可能反而推升租金。若從供需觀點判斷，下列敘述何者錯誤？

- (A) 在租屋供給短期較難調整時，補貼可能讓部分新增的承租需求轉化為租金上漲的壓力
- (B) 租金補貼會提高實質可支配所得，因此有可能在一定程度上推升租屋市場的需求量
- (C) 若租屋供給長期逐步增加，補貼對租金水準的影響，會受到房東調整房源與市場競爭程度的左右
- (D) 租金補貼的效果等同直接設定租金不得超過某一上限，因此在任何情況下都一定會壓低實際租金水準



21. 近年隨著國際供應鏈愈加重視碳盤查與再生能源使用，臺灣不少出口導向企業即使面對較高的綠電成本，仍選擇簽訂購電契約。若從經濟學角度分析，下列敘述何者錯誤？
- (A) 在國際品牌與買方強調碳足跡管理的情況下，企業即使支付較高綠電價格，也可能視為維持訂單與品牌形象的一種必要成本
  - (B) 當貿易規則、客戶要求與碳排放相關的合規成本提高時，企業會重新評估使用綠電與否的邊際效益，調整生產與投資配置
  - (C) 綠電在現實中屬於有限資源，需要透過市場機制定價與分配，因此其價格變動會影響企業成本與採用意願
  - (D) 綠電本質上是完全免費取得的自由財，不存在稀少性問題，所以企業是否購買綠電與其成本考量無關
22. 某市議會審查年度預算時，各選區議員都主張：「別區的建設可以刪，但我選區的建設不能少。」結果整體預算不斷膨脹，而一般納稅人雖然共同承擔成本，卻因每個人分攤的金額有限而少有動力組織反對。下列何者最能解釋這種現象？
- (A) 結構功能主義主張，只要制度中有議會存在，預算自然會達到最有效率的結果
  - (B) 審議民主認為，只要多數民眾冷漠，官僚就不會追求本身機關利益
  - (C) 政治文化理論認為，只要人民具有愛國心，集體行動困境就會自然消失
  - (D) 公共選擇理論指出，政治人物、選民與官僚也可能依自身誘因行動，形成「利益集中、成本分散」的政策偏誤
23. 某新興工業化國家在十多年內快速都市化、識字率提高、青年政治參與增加，社群媒體也使公共議題動員速度大幅上升；然而，該國的政黨體系仍十分鬆散，官僚專業化不足，司法與議會也無法有效吸納社會衝突，導致街頭抗爭頻繁、政策方向反覆。若從杭廷頓（Samuel Huntington）的政治現代化理論觀點分析，下列敘述何者最適當？
- (A) 此情境符合結構功能論的預測，行政與立法功能的重疊是導致政治發展遲滯的核心關鍵。只要經濟成長與教育程度上升，政治穩定與民主鞏固必然自動到來
  - (B) 該國呈現政治衰敗現象，主因在於政治制度化的速度落後於社會動員
  - (C) 該國經濟成長與教育提升將自發性地確保民主穩定。現代化只代表科技進步，與政治參與擴張或制度能力無關
  - (D) 該國當前的亂象是邁向高度現代化的必要成本，只需強化社群媒體的溝通功能即可化解
24. 2025 年間，立法院針對《憲法訴訟法》提出修法，擬將憲法法庭評議門檻由「現有總額」改為「法定總額」，並將評議門檻提高至三分之二。社會輿論與法律學界對此高度關注，憂心若立法機關與總統因大法官人事提名權與同意權陷入僵局，導致大法官人數未能補齊，憲法法庭將因人數不足法定門檻而實質癱瘓。若從憲政民主體制的學理基礎分析，此種「憲政機關功能性空轉」對民主秩序最大的危害為何？
- (A) 將導致代議機關（立法權）在行使權力時，欠缺具備「反多數決」性質的司法制衡，進而威脅憲法對少數權利與核心價值的保障
  - (B) 違反了「責任政治」原則，因為司法機關本應對選民直接負責，若長期無法結案將使主權者無法對法官進行政治問責
  - (C) 破壞了「行政優位」的原則，使總統無法透過大法官解釋來克服國會僵局，導致行政效率因法律爭議而陷入長期的停滯與損耗
  - (D) 觸發了「政治問題不審理原則」，使原本應透過司法途徑解決的法律糾紛，轉化為頻繁的公民罷免動員。只會使一般法院審判速度變快，因此有助司法效率



25. 由於 AI 的演算法具備高度複雜與不透明的特質，一旦涉及選民資格審查或政見精準投放的系統發生偏誤，往往難以釐清是技術缺陷或是人為操弄。若從民主治理與風險管控的學理分析，下列關於政府應對 AI 風險的政策方向，何者最為適當？
- (A) 積極擁抱技術決定論，將公共決策委由 AI 系統產出，以追求官僚體系中絕對的工具理性與決策效率
  - (B) 採取彈性的市場調節策略，鼓勵科技產業自主研發多元演算法，透過自由市場的競爭機制，達成技術自我修正與倫理優化的目標
  - (C) 遵循「人本 AI」之規範架構，強調自動化決策應具備可解釋性與人為覆核機制，確保科技應用不脫離法律正當程序與問責體系
  - (D) 強化數位公民參與的廣度，利用大數據分析即時擷取網路輿論動態，將民意聲量直接轉化為演算法權重，以落實極致的直接民主
26. 隨著數位經濟發展，跨境通訊平台與虛擬通貨交易所成為新興犯罪的主要媒介。某國外通訊平台「Ping」在國內擁有百萬用戶，卻因未在國內設立據點，導致檢警單位在追查重大電信詐欺案時，難以調取犯罪通訊紀錄或下架違法資訊。依據打詐新四法，下列敘述何者最適當？
- (A) 基於司法管轄權之屬地原則，政府對未在國內設有據點之國外業者完全不具法律約束力，僅能透過國際刑警組織尋求個案協助
  - (B) 虛擬資產交易所若未完成洗錢防制登記而自行營業，依據比例原則，政府不得對其採取限制存取或封鎖網域之處分
  - (C) 法律規定特定規模之境外平台業者應指定「法定代理人」或「法律代表」，以負責執行犯罪防治義務並作為政府聯繫之窗口
  - (D) 執法機關為獲取犯罪事證，依法得逕行要求平台業者提供特定用戶之即時定位資訊
27. 甲在使用 AI 平台時，曾依系統要求上傳多張個人自拍照，用於「個人化風格訓練」，事後發現平台業者未告知，即將這批照片轉賣給第三方廣告公司，用於投放精準廣告，下列何者正確？
- (A) 甲自願上傳照片，即視為同意業者以任何方式使用，業者無須另行告知或取得授權
  - (B) 個人照片屬可公開瀏覽的視覺資訊，不屬於個人資料，不受《個人資料保護法》規範
  - (C) 《個人資料保護法》僅規範政府機關，私人企業的資料使用不受拘束
  - (D) 業者的行為違反《個人資料保護法》，甲得向主管機關申訴，並依法請求損害賠償
28. 雖然數位經濟創造了大量財富，但社會階層的「僵固化」現象卻日益顯著。數據顯示，儘管許多基層家庭子弟在學業表現上優於同齡者，但其進入高薪管理層的比例，仍低於表現平庸但家庭背景優渥的同儕。下列敘述何者最適當？
- (A) 現代社會已落實「功績主義」，個人地位的取得完全取決於「成就身分」，「先賦身分」的影響力在數位時代已降至最低
  - (B) 隨著教育擴張與學歷普及，學校體系已成功發揮其「階級分配」的公平功能，有效消弭了家庭文化資本對個人流動路徑的干擾
  - (C) AI 技術引發的「結構性流動」帶動了全民的向上躍升，中產階級因技術紅利而擴大，使得社會流動從「零和競爭」轉向「互利共贏」
  - (D) 富裕階層所擁有的「玻璃地板」效應，使其子嗣即便個人能力普通亦能避免向下流動，這實質上縮減了基層優秀人才向上流動的機會

29. 隨著生成式 AI 廣泛應用於社交媒體，各類「深度偽造 (Deepfake)」訊息氾濫，使公眾難以辨識影音內容的真實性。這種現象導致人們不再依據客觀事實進行對話，轉而訴諸個人情感與既有立場。關於此種媒體環境對社會發展的影響，下列敘述何者最適當？

- (A) 資訊科技的進步展現了「數位民主」的極致，讓每個人都能自由建構屬於自己的現實，進而完全取代傳統媒體的專業權威
- (B) 此現象體現了「科技中立」原則，虛假訊息的傳播純屬個人識讀能力的差異，與媒體平台的演算法邏輯及獲利模式無關
- (C) 社會進入「後真相」時代，當共享的真實基礎被瓦解，將削弱公民理性溝通的能力，並對民主公共領域造成威脅
- (D) 根據「數位近用權」分析，政府須全面普及高速網路與智慧裝置，以有效防範虛假訊息對社會信任所造成的負面衝擊

30. 甲里：居民即使夜間無人監看，仍自動將垃圾分類、不佔用他人停車位，鄰居間互相提醒共同維護公共空間整潔，整體社區井然有序。


乙里：管委會因預算不足，裁撤了社區保全與監視系統後，公共走廊開始出現亂丟垃圾、違規停車等現象，秩序明顯惡化。

根據上述情境，下列何者最為正確？

- (A) 甲里的秩序之所以穩固，在於居民已將社區規範內化為自身價值信念，形成共識，不需依賴外在強制力即能自律遵守，體現了社會秩序最根本的維繫機制
- (B) 甲里的良好秩序，主要來自於管委會制定了完善的正式規章制度，以罰則約束居民行為，屬於正式社會控制發揮功效的結果
- (C) 乙里秩序惡化，說明非正式社會控制（如輿論、習俗）本質上軟弱無力，唯有透過法律與強制機關才能真正維持社會秩序
- (D) 兩里的對比說明，社會制裁中的負向制裁（懲罰）是維持秩序的最關鍵因素，一旦撤除懲罰機制，任何社區都必然陷入失序

31. 小明為了追求社群媒體上標榜的「完美體態」，每天使用手機軟體精確紀錄每一口食物的熱量，並在健身房進行高強度的訓練，只為了能貼出一張獲得更多「讚」的照片。根據身體社會學的觀點，關於此現象的解讀，下列何者最適當？

- (A) 身體樣貌完全由先天遺傳基因決定，後天的修飾僅是為了維持基本的生物機能
- (B) 這種行為反映了個體在社會系統中的「病患角色」，旨在尋求社會制度的豁免
- (C) 身體被視為一種可經營的「自我計畫」，並在社會權力的監視與規訓下被重塑
- (D) 此現象展現了純粹的理性選擇，個人透過精算邊際效用來達成身體健康的極大化



32. 某國會為推動「數位國家轉型」，以絕對多數表決通過《國家網路治理法》。該法授權行政機關得於「特定傳染病流行期間」，逕行封鎖散布非官方防疫資訊之社群帳號，且提案者聲稱此舉擁有超過七成民調支持。少數反對黨立委聲請憲法法庭審查。依據當代「立憲民主（Constitutional Democracy）」的理論視角，下列針對此事件的評析，何者最為適切？
- (A) 該法案既經民選國會多數通過且具民意基礎，憲法法庭應基於國民主權原則予以尊重，不應介入
  - (B) 民主政治本質為多數決，少數黨立委提請違憲審查之舉，實已違反少數服從多數之民主程序正義
  - (C) 縱使法案具備多數民意支持與防制傳染病之公益目的，仍不能豁免其對言論自由限制的違憲審查
  - (D) 在面臨國家重大危機時，行政效能應優先於憲政體制，故該授權條款自然符合現代民主國家的運作原則
33. 某市政府為回應青年世代對氣候變遷政策之訴求，擬從以下四種公民參與模式中擇一，使青年公民「實際決定」明年度市府氣候調適專款新台幣 2 億元之具體分配項目，而非僅蒐集意見或勾勒願景。下列何種機制最為適切？
- (A) 審議式民調（Deliberative Polling）
  - (B) 參與式預算（Participatory Budgeting）
  - (C) 願景工作坊（Scenario Workshop）
  - (D) 公民咖啡館（World Café）
34. 某研究指出：「當演算法依使用者過往瀏覽紀錄推薦類似觀點之資訊時，個人接觸到之意見將日趨單一，與不同立場之人形成隔絕的資訊圈層。」此現象最能呼應下列哪一概念？
- (A) 沉默螺旋
  - (B) 涵化理論
  - (C) 同溫層效應／過濾氣泡
  - (D) 第三人效果
35. 某國 STEM 領域博士畢業生人數統計如下：2010 年男性 8,500 人、女性 2,200 人，女性占比 20.6%；2017 年男性 9,200 人、女性 3,100 人，女性占比 25.2%；2024 年男性 9,800 人、女性 4,300 人，女性占比 30.5%。下列從性別社會學觀點之解讀，何者最為合理？
- (A) 女性占比已過半，顯示玻璃天花板（glass ceiling）現象在學術界已徹底消失
  - (B) 男性人數持續成長，顯示性別不平等加劇，女性被擠出 STEM 領域
  - (C) 女性絕對人數雖增加，但占比仍低於男性，反映性別職業隔離仍未完全消除
  - (D) 資料僅顯示博士階段，無法反映任何結構性不平等現象，僅屬個人選擇
36. 跨國影音串流平台 N 公司在全球擴張時，並非單純將好萊塢電影強行推銷至亞洲。相反地，該公司斥資投資韓國本土劇組，結合西方喪屍題材與韓國傳統朝鮮王朝的宮廷鬥爭，製作出廣受全球歡迎的影集《屍戰朝鮮》；隨後又在台灣結合本土道教信仰與民俗傳說，推出原創恐怖劇集。該跨國企業的市場策略與文化現象，最適合以下列哪一個社會學概念加以詮釋？
- (A) 文化帝國主義
  - (B) 全球在地化
  - (C) 文化趨同論
  - (D) 文化挪用



【題組（共2題）】針對「第三核能發電廠經主管機關同意確認無安全疑慮後，繼續運轉」舉行全國性公民投票，再度引發社會對能源轉型、核安風險、地方承擔與公民決策的爭論。有人主張AI產業與高科技製造帶動用電成長，應保留低碳穩定電源；也有人主張核廢料與事故風險不應由少數地方居民承擔。

37. 就我國公民投票制度分類而言，上述核三議題最適合歸類為下列何者？

- (A) 憲法修正之複決
- (B) 地方自治條例之創制
- (C) 法律案之複決
- (D) 重大政策之複決公投

38. 若從政治學結合地理分布來分析此爭議，下列敘述何者最適當？

- (A) 此爭議呈現出「環境正義」在地理空間上的張力，反映出全國性公投的「程序正義」與地方居民所處的「分配正義」之間存在價值權衡
- (B) 鄰避效應在此議題中展現出地方居民對於負面外部性的理性防禦，體現了區域公民社會對於環境品質維護的主動性與重視
- (C) 此類高度專業的能源爭議反映了「風險社會」下決策的複雜性，顯示出專家政治的技術論證與公眾參與的價值判斷在現代民主制度中具備互補功能
- (D) 全國性公投作為直接民主的制度實踐，能有效匯聚多元民意以解決長期存在的政策僵局，並為國家整體的能源發展路徑提供高度的合法正當性基礎

【題組（共2題）】由於政府將辦理立法委員罷免案與地方首長罷免案，引發社會對「罷免是否被濫用」與「罷免是否為民主監督機制」的激烈討論。某校公民老師設計下列表格，帶領學生理解罷免制度的門檻。若依據法規，立法委員罷免案通過，須同時符合：1. 同意票多於不同意票；2. 同意票達原選舉人總數四分之一以上。而某四個選區立法委員罷免投票結果如下：

選區	原選舉人數	同意罷免票	不同意罷免票
甲選區	320,000 人	90,000 票	80,000 票
乙選區	260,000 人	63,000 票	58,000 票
丙選區	300,000 人	86,000 票	95,000 票
丁選區	240,000 人	55,000 票	40,000 票

39. 依照上表與題幹規則判斷，下列何者正確？

- (A) 只有甲選區通過罷免
- (B) 甲、乙選區通過罷免
- (C) 乙、丁選區通過罷免
- (D) 甲、丙選區通過罷免

40. 從政治學觀點來看，罷免制度最能展現下列哪一種民主功能？

- (A) 只要有罷免制度，就不再需要定期選舉
- (B) 罷免是行政院對立法院行使監督權的一種方式
- (C) 罷免屬於垂直課責機制，使選民可於任期中追究民意代表政治責任
- (D) 罷免成功代表法院已認定該公職人員有刑事犯罪

41. 某學者運用台灣社會變遷基本調查資料，比較1985年、2005年、2025年三個世代之「父代為勞工階級」之子女於成年後從事「中產階級職業」之比例，發現該比例由1985年之18%上升至2025年之34%。下列關於此一發現之社會學分析，何者最為正確？

- (A) 此數據反映「跨代流動率」上升，意謂台灣社會之機會均等程度有所提升，子女社會地位較不受父母階層之限制
- (B) 此數據顯示先賦地位（如家庭出身）對子女成就之決定性增強，僅有少數人能突破階級複製
- (C) 「結構性流動」與「循環性流動」概念於此案相同，皆指個人努力所產生之階層變動
- (D) 跨代流動率高代表「向下流動」（downward mobility）已從現代社會徹底消失



42. 受到國際地緣政治變化與美國聯準會 (Fed) 貨幣政策的影響，新臺幣兌美元的匯率由「1 美元兌換 32.5 元新臺幣」快速變動為「1 美元兌換 30.5 元新臺幣」。假設其他條件不變，此一匯率波動對我國總體經濟與不同產業部門的影響，下列分析何者最為正確？
- (A) 新臺幣呈現「貶值」，有利於我國半導體及機械設備等出口導向產業，因其產品在國際市場的美元報價將更具競爭力
  - (B) 新臺幣呈現「升值」，不利於我國仰賴進口原油與大宗穀物的產業，因其以新臺幣支付的進口成本將大幅增加
  - (C) 新臺幣呈現「升值」，有利於國人出國旅遊與購買海外進口商品，因以新臺幣計價的實質購買力上升
  - (D) 匯率的升降僅由中央銀行的外匯干預政策單方面決定，與國際熱錢的流動或市場供需機制毫無關聯
43. 依據李嘉圖 (David Ricardo) 的「比較利益法則」，假設甲、乙兩國皆具備生產「AI 伺服器」與「電動車」的技術，且皆僅投入勞動作為生產要素。甲國生產 1 單位的 AI 伺服器需耗費 4 單位勞動小時，生產 1 單位的電動車需耗費 5 單位勞動小時；乙國生產 1 單位的 AI 伺服器需耗費 6 單位勞動小時，生產 1 單位的電動車需耗費 12 單位勞動小時。若兩國欲透過專業分工與國際貿易來提升各自的國家福祉，下列分析何者最為精確？
- (A) 甲國在生產 AI 伺服器與電動車上皆具備「絕對利益」，故甲國不需與乙國進行任何貿易，即可實現自身利益最大化
  - (B) 乙國生產 1 單位 AI 伺服器的機會成本為 0.5 單位電動車，低於甲國的 0.8 單位電動車，故乙國在 AI 伺服器上具備「比較利益」
  - (C) 甲國生產 1 單位電動車的機​​會成本為 1.25 單位 AI 伺服器，高於乙國的 2 單位 AI 伺服器，故甲國應專門生產 AI 伺服器
  - (D) 依比較利益法則，乙國應專業化生產電動車並出口至甲國，以換取甲國生產的先進 AI 伺服器
44. 下列關於族群關係理論之分析，何者最為正確？
- (A) 「同化論」(assimilation) 主張弱勢族群應放棄原生文化，完全融入主流文化，當前已被國際普遍肯認
  - (B) 「族群歧視」(ethnic discrimination) 僅存在於法律明文允許之國家，當代民主國家已無此現象
  - (C) 「文化多元論」(cultural pluralism) 與「同化論」相同，皆強調文化單一化
  - (D) 「多元文化主義」(multiculturalism) 主張承認與尊重各族群之文化差異，並追求各族群之平等地位
45. 德國社會學家 Ulrich Beck 於《風險社會》(Risk Society) 中提出「全球風險社會」概念。下列關於此論述之分析，何者最為正確？
- (A) 全球風險社會指當代風險已具備跨國性、不確定性與普世性，如氣候變遷、核災、疫情
  - (B) 全球風險社會中，風險之分配僅與經濟階層相關，與國家權力或資訊取得無關
  - (C) 全球風險社會理論認為，當代風險可由科技進步完全消除，毋需公共審議
  - (D) 全球風險社會主張各國應採完全閉鎖鎖國政策，以避免外來風險之擴散

46. 社會學家 Alain Touraine、Jürgen Habermas 等於 1980 年代後提出「新社會運動」(New Social Movement, NSM) 理論。下列關於此理論之分析，何者最為正確？
- (A) 新社會運動以「階級議題」(如勞資矛盾、所得分配) 為主軸
  - (B) 新社會運動聚焦於「認同」、「文化」、「生活方式」等非物質性議題，如環保、性別、人權
  - (C) 新社會運動之參與者主要為失業勞工與社會邊緣群體
  - (D) 新社會運動之策略以暴力革命為主，目標係推翻國家政權
47. 我國於民國 114 年 (2025) 正式邁入「超高齡社會」(super-aged society)。下列關於我國人口結構之分析，何者最為正確？
- (A) 我國「超高齡社會」係指 65 歲以上人口占總人口比例達 14% 以上之情形
  - (B) 高齡化僅造成社會福利支出增加，對勞動市場、產業結構並無顯著影響
  - (C) 我國總生育率長期維持於人口替換水準 (2.1) 以上，故無少子化之憂
  - (D) 「人口紅利」(demographic dividend) 指生產年齡人口比例高、扶養比低之人口結構，對經濟成長有利；依國發會推估，我國工作年齡人口比率自約民國 103 年 (2014) 達高峰 74.22% 後逐年下降，預估約於民國 116 年 (2027) 結束人口紅利期
48. 下列關於全球化與不平等之社會學分析，何者最為正確？
- (A) 全球化已使 Wallerstein 所提之「核心—半邊陲—邊陲」世界體系完全消除，各國地位平等
  - (B) 全球化下，跨國企業之權力受國際組織之充分制衡，不會威脅地主國之主權
  - (C) 全球化僅造成已開發國家內部之不平等，對開發中國家之內部分配無影響
  - (D) 全球化使資本、商品、資訊跨國流動，但勞動力跨國流動受國家邊界與移民政策嚴格限制，形成「不對稱全球化」
49. 某國實施與我國現行憲政體制相同的「半總統制」。該國國會近期三讀通過《人工智慧產業特別稅條例》，行政院認為該法案將嚴重削弱國家科技競爭力，窒礙難行。在尚未總統公布生效前，行政部門擬採取合憲的憲政機制以阻卻該法案之實施。關於此憲政攻防，下列敘述何者最符合我國現行《憲法增修條文》之規範？
- (A) 行政院長得逕行退回該法案要求國會重新審議；若國會以三分之二多數維持原案，行政院長即須辭職
  - (B) 行政院得經總統核可後提出覆議；若國會全體委員二分之一以上決議維持原案，行政院長應即接受該決議
  - (C) 總統得行使法案否決權拒絕簽署；國會若欲反制，僅能透過對行政院長提出不信任案迫使內閣改組
  - (D) 行政院得聲請憲法法庭進行事前違憲審查；在憲法法庭作出判決前，該法案之立法程序即告凍結

50. 公民記者甲因持續追蹤並報導某跨國企業的污染事件，遭該企業控告妨害名譽並求償。法院最終判決甲敗訴定讞。甲認為，法院在判決中所闡釋的「實質惡意原則」標準過於嚴苛，已實質侵害其憲法保障之新聞自由與言論自由。在《憲法訴訟法》施行後的現行法制下，甲若欲尋求憲法救濟，下列途徑與法理分析何者最為適切？
- (A) 甲僅得針對刑法或民法中有關妨害名譽的「法律條文」本身聲請違憲審查，不得對該具體判決結果提出挑戰
  - (B) 甲得向憲法法庭聲請「裁判憲法審查」，主張該確定終局裁判在適用法律的見解上，牴觸了憲法的基本權保障意旨
  - (C) 憲法法庭若受理此案，將全面重新調查甲是否確有妨害名譽之事實，以取代最高法院的第三審事實認定功能
  - (D) 甲應先向監察院陳情，由監察委員對承審法官提出糾舉後，始得發動憲法法庭之審查程序
51. 某中央三級機關甲科長將於年底退休，需辦理銓敘程序、退休金核定、職務出缺之陞遷遞補等事項；同時，該機關擬就所屬司法事務官資格進行新一輪考試招募。從我國五院制度之憲法分工觀點，下列敘述何者最為正確？
- (A) 甲科長之「退休金核定」屬考試院銓敘部職權；「職務遞補陞遷之實際決定」則屬行政院人事行政總處
  - (B) 司法事務官為司法人員，其考試招募應由司法院辦理，與考試院考選部無涉
  - (C) 甲科長若認退休金核定有誤，應向監察院申訴，由監察院糾正之
  - (D) 所有公務人員之考績、陞遷、褒獎之政策法制與實際執行，均統屬於行政院人事行政總處
52. 為實踐聯合國 SDGs 減塑目標，某縣議會三讀通過《該縣環境保護自治條例》，規定：「縣內連鎖餐飲業若提供一次性塑膠杯，將處新臺幣十萬元以上罰鍰，並勒令停業。」然而，中央《廢棄物清理法》之授權法規目前僅規定最高罰鍰六千元。針對此一地方自治法規與中央法規之競合關係，依據我國《地方制度法》之法理，下列敘述何者最為正確？
- (A) 該自治條例因具有地方立法機關之民主正當性，基於「地方自治核心領域」之保障，得優先於中央法規適用
  - (B) 該自治條例涉及人民工作權與財產權之重大限制（如勒令停業），依法律保留原則，地方自治條例無權制定任何行政罰法規
  - (C) 該自治條例包含罰則，應報經中央各該主管機關核定；若中央認為其牴觸法律，得不予核定或函告無效
  - (D) 若該縣政府對中央之函告無效處分不服，僅得依訴願程序向行政院提出救濟，不得逕行聲請憲法法庭判決
53. 我國立法委員選舉採「單一選區兩票制」之並立制（parallel system）。下列關於我國國會選舉制度與政黨競爭之敘述，何者最為正確？
- (A) 單一選區兩票制中，選民投區域票即視同投政黨票，兩票具相同政治意涵
  - (B) 不分區立委席次依政黨得票率分配，且不設政黨門檻，有利小黨進入國會
  - (C) 區域立委採單一選區相對多數決，容易產生「兩黨制」傾向，符合杜瓦傑法則（Duverger's Law）
  - (D) 單一選區並立制較聯立制更具比例代表性，可有效反映各政黨之真實民意支持度



54. 政府為因應數位時代之「假訊息」(disinformation) 氾濫，擬制定專法，賦予行政機關認定「假訊息」並要求平台業者下架之權力。從憲法保障言論自由之觀點，下列何者為對該立法最具憲法疑義之批評？
- (A) 該法可能違反「明確性原則」，因「假訊息」之定義模糊，使人民無從預期言論之違法性界限
  - (B) 該法可能違反「信賴保護原則」，因現有人言論自由實踐已形成規範性信賴
  - (C) 該法可能違反「行政中立原則」，因公務員不應介入媒體內容之判斷
  - (D) 該法可能違反「比例原則」之必要性原則，因現行刑法（誹謗、公然侮辱）已足以規範
55. 某地方政府推動「校園安全防護網」計畫，強制於公立國高中校門與走廊全面安裝具備「人臉辨識」與「情緒偵測」功能之 AI 監視系統。校方主張此舉能精準預防校園霸凌，且學生於公共走廊本無隱私可言。部分學生家長與人權團體強烈反對，認為此舉侵害學生基本權。依據司法院釋字第 603 號解釋意旨及憲法法理，下列分析何者最為妥適？
- (A) 學生在校園走廊之活動皆屬肉眼可見之公開行為，已完全喪失「合理隱私期待」，故校方蒐集行為不受憲法隱私權之限制
  - (B) 「情緒偵測」所蒐集之生物特徵與心理狀態資訊，屬憲法第 22 條保障之「資訊隱私權」，個體有權決定是否揭露及揭露範圍
  - (C) 隱私權為我國憲法明文列舉之基本人權，因其位階高於一般法律，故任何公權力之限制均屬絕對違憲
  - (D) 基於「特別權力關係」理論，學生與學校間屬緊密之管理關係，校方基於教育與安全管理目的，得豁免比例原則之審查
56. 學者 Sidney Tarrow 在《Power in Movement》中區分「常規政治」與「抗爭性政治」(contentious politics)。下列關於現代民主社會中社會運動之敘述，何者最為正確？
- (A) 社會運動之策略可分為「破壞性」與「制度性」，二者之選擇受到「政治機會結構」之影響
  - (B) 社會運動在民主鞏固後將消失，因人民已可透過選舉表達意見，毋需體制外抗爭
  - (C) 公民不服從 (civil disobedience) 與一般社會運動相同，皆強調不限手段達成目的
  - (D) 民意調查方法之普及已能完全替代社會運動，使後者失去政治影響力
57. 16 歲的高中生甲，未經父母同意，擅自將自己歷年存下的壓歲錢共計新臺幣 10 萬元，用於某知名網路遊戲中購買「限量版虛擬寶物與高階帳號」。甲的父母數日後查閱帳戶才驚覺此事，認為該筆花費極不合理，立即聯繫遊戲公司客服要求全額退款。依據我國民法相關規定，下列關於此筆數位交易之法律效力分析，何者最為正確？
- (A) 甲已滿 16 歲，依現行法制具備部分行為能力，且使用自身存款交易，故該買賣契約自始完全有效
  - (B) 該筆交易屬「日常生活所必需」，符合民法第 77 條但書規定，父母無權單方面要求撤銷或退款
  - (C) 甲屬限制行為能力人，此高額虛擬寶物交易非屬日常生活所必需，在法定代理人承認前，該買賣契約效力未定
  - (D) 因虛擬寶物不具備實體物權性質，故不適用民法之契約規範，甲之父母僅能依《消費者保護法》主張無條件退費



58. 某公關公司女性員工 A，於負責接待公司之重要 VIP 客戶 B 時，B 多次於飯局中對 A 開黃腔，並藉機撫摸 A 的大腿。A 深感不適並向公司主管申訴。然而，主管卻以「B 是公司大客戶，妳就為了公司的業績稍微忍耐一下，不要把事情鬧大」為由，拒絕介入處理，並要求 A 繼續擔任 B 的專屬窗口。依據最新修正之《性別平等工作法》與相關法規，下列敘述何者最為正確？
- (A) 因加害人 B 並非該公司之員工，公司無權對 B 進行懲處，故主管拒絕處理之作法完全合法
  - (B) 此情境構成「敵意性工作環境性騷擾」。雇主於知悉後，縱使加害人為外部客戶，仍負有採取立即有效之糾正及補救措施之義務
  - (C) 客戶 B 之行為僅適用《性騷擾防治法》，不適用《性別平等工作法》，A 僅能自行向警局報案，不得向地方勞動主管機關申訴雇主
  - (D) 雇主若未盡防治義務，僅主管個人須承擔刑事責任，公司法人不須承擔任何行政罰鍰或連帶損害賠償責任
59. 甲為某私立大學進修推廣部之在職學生，校方以「未繳交期末報告」為由予以記大過處分，並依此於學期中將甲予以退學。校方另於同一學期中無預警調漲學費 15%。甲擬尋求救濟。依司法院釋字第 382 號、第 684 號、第 784 號解釋意旨，下列關於甲法律關係之分析，何者最為正確？
- (A) 依「爭執標的性質」決定救濟途徑：退學處分屬行政爭訟、學費爭議屬民事訴訟；而記大過處分依釋字第 784 號意旨，亦得提起行政爭訟救濟
  - (B) 私立大學屬私法人，校方所有處分皆屬私法契約爭議，甲僅得向民事法院提起訴訟
  - (C) 私立大學凡受教育部補助即視為行政機關，所有處分皆為公法事件，甲僅得提起行政訴訟
  - (D) 依「大學自治」原則，校方對學生之退學、記大過及學費調整等決策皆不受司法審查
60. 立法者於民國 113 年制定《人工智慧基本法》，僅就「生成式 AI」之開發者義務有所規範，未及於「決策式 AI」與「分析式 AI」。某行政法院於審理具體案件時，認為三者於資料保護與使用者權益保障之需求高度相似，擬將該法所定義務一體適用於後二者。下列關於本案所運用之法律解釋方法之分析，何者最為正確？
- (A) 此為「擴張解釋」，因「AI」一詞之文義本得涵蓋三種類型，僅須以文義解釋即可
  - (B) 此為「類推適用」，於法律有規範漏洞時，將法律未規定之相同法理，援用至類似情境
  - (C) 此為「目的性限縮」，將條文文義範圍限縮至立法目的所及之事項，避免過度規範
  - (D) 此為「反對解釋」，從立法者明文未列舉者，推論其有「刻意排除」之意旨
61. 甲死亡時，留有遺產 1,200 萬元；其繼承人有配偶乙、母親丙、姊丁、兄戊及未成年子女己、庚二人。甲生前未立遺囑。下列關於本案繼承關係之分析，何者最為正確？
- (A) 配偶乙與母親丙、姊丁、兄戊共同繼承，各繼承比例由協議決定
  - (B) 子女己、庚為直系血親卑親屬，優先繼承全部遺產；配偶乙僅得依特留分請求應繼分 1/2 之款項
  - (C) 因有未成年子女，須由法院指定遺產管理人代為處分，各順位繼承人均不得直接領取
  - (D) 繼承人為配偶乙、子女己、庚共三人，乙與第一順位繼承人共同繼承時應繼分均等，各得 400 萬元

62. 某日深夜，急診室內一名病患家屬乙因不滿醫療處置，突然情緒失控，抽出身藏的利刀意圖刺向正在執行急救的護理師丙。在旁候診的民眾甲見狀，為保護丙的生命安全，迅速抄起一旁的金屬點滴架重擊乙的手腕與頭部，導致乙手腕骨折並腦震盪倒地。事後乙對甲提出重傷害罪之告訴。針對甲之行為，下列刑法學理之評價何者最為正確？
- (A) 甲與護理師丙並無親屬關係，無權介入他人糾紛，故甲之行為僅屬「義憤行為」，無法阻卻違法
  - (B) 乙揮刀攻擊醫護人員屬「現在不法之侵害」，甲為保護他人生命法益而實施反擊，構成「正當防衛」，依法不罰
  - (C) 甲之行為係為避免護理師丙的生命危險，應適用「緊急避難」；但因防衛手段過於激烈造成乙骨折，須負擔過失傷害責任
  - (D) 依據「生命法益絕對保護」原則，甲為了保護丙的生命而損害乙的身體法益，法益衡量上失衡，構成防衛過當
63. 下列各情境之行為人，何者構成刑法第 335 條之「侵占罪」（而非竊盜、詐欺或強盜罪）？
- (A) 甲於同事乙離座吃午餐時，趁機取走乙桌上之 AirPods 耳機放入自己包中
  - (B) 甲冒充「政府紓困小組工作人員」，以協助申辦補助為名，向不諳網路之長輩騙取存摺及印鑑後盜領 10 萬元
  - (C) 甲擔任公寓管委會總幹事，受託代收住戶大樓修繕基金共 50 萬元，後因投資失利而擅自挪用 30 萬元供己花用
  - (D) 甲於深夜尾隨單身女性丙至偏僻巷道，持刀威嚇丙交出隨身財物及手機
64. 下列關於我國行政救濟制度之敘述，何者最為正確？
- (A) 訴願程序屬「行政自我控制」之機制，但人民對行政處分不服之撤銷訴訟，得逕向行政法院提起，毋須先提訴願
  - (B) 對中央機關之行政處分不服，應向總統府提起訴願；對地方機關處分不服，向直屬上級機關提起訴願
  - (C) 行政法院對行政處分原則上僅審查其合法性，不審查其合目的性與妥當性
  - (D) 行政訴訟採三級三審制，所有事件均以最高行政法院為終審法院
65. 下列關於我國《個人資料保護法》之分析，何者最為正確？
- (A) 個資外洩事件中，當事人僅得對行為人主張民事損害賠償，不得向主管機關申訴
  - (B) 公務機關得基於「執行法定職務」之必要，無條件蒐集、處理及利用個資，毋需告知當事人
  - (C) 個資法將個人資料區分為「一般個資」與「特種個資」，後者（如病歷、醫療、基因、性生活、健康檢查、犯罪前科）原則上禁止蒐集
  - (D) 「同意原則」為個資法蒐集之唯一合法基礎，任何蒐集行為均須當事人之事前明示同意

66. 甲在網路上看到某知名實況主推薦的客製化機械鍵盤，遂於廠商官網下單，並在備註欄要求「鍵帽需雷射雕刻我的英文名字'ALEX'」。商品寄達後第三天，甲覺得鍵盤敲擊手感不符預期，未有任何損壞便將商品裝回原箱，向廠商要求依《消費者保護法》行使「7 天猶豫期」無條件解約退款。廠商以「此為客製化商品」為由拒絕。關於本案之消費爭議，下列敘述何者最為正確？
- (A) 網購享有 7 天無條件退貨權是絕對的法律保障，任何形式的契約條款或商品種類皆不得排除此權利，廠商必須退款
  - (B) 甲必須自行聘請第三方鑑定機構，證明該鍵盤確實存在重大瑕疵，才能依民法物之瑕疵擔保責任要求退款
  - (C) 因甲已拆封並試打鍵盤，商品已非「全新未拆」狀態，故不論商品是否客製化，甲均喪失 7 天猶豫期之解除權
  - (D) 該鍵盤刻有甲之專屬姓名，屬於《通訊交易解除權合理例外情事適用準則》中之「依消費者要求所為之客製化給付」，廠商依法得拒絕甲的退貨要求
67. 依據國際勞工組織（ILO）對失業類型之分類，下列各情境所反映之失業類型，何者對應最為正確？
- (A) 甲為某傳統製造業中年勞工，因公司導入 AI 與工業機器人取代生產線，技能無法即時轉換而長期待業→摩擦性失業
  - (B) 乙為墾丁觀光區飯店服務員，每年 9 月至次年 3 月之非旺季常處於待業狀態→循環性失業
  - (C) 丙為國立大學 115 年 6 月應屆畢業生，正積極投遞履歷尋找適合之第一份工作→摩擦性失業
  - (D) 丁為航空公司空服員，因 2025 年全球景氣衰退、跨國旅運需求驟減，遭公司大規模裁員→結構性失業
68. 近期政府為穩定民生，擬對「雞蛋」實施價格上限（price ceiling），設定每台斤上限為新臺幣 70 元（低於市場均衡價 85 元）。下列關於此政策可能產生之經濟效果，何者最為正確？
- (A) 消費者剩餘必然增加，且生產者剩餘亦因穩定供應而提升
  - (B) 市場將出現超額供給，蛋商面臨庫存堆積壓力
  - (C) 政府介入消除市場失靈，整體社會福利達到柏拉圖最適狀態
  - (D) 市場將出現超額需求，可能形成排隊、配給或地下交易等現象
69. 某資工系大四學生小宇於畢業後同時面臨四項選擇方案：(甲)就職科技大廠工程師年薪 150 萬元；(乙)就讀美國史丹福大學 AI 研究所，每年學費生活費共需支出 200 萬元（無獎學金）；(丙)創業開發 AI 教育新創公司，預估年淨利 80 萬元；(丁)申請台大博士班，每年領取科技部獎學金 60 萬元。若小宇最終選擇(乙)前往美國深造，依機會成本之精確定義，其機會成本為下列何者？
- (A) 350 萬元
  - (B) 150 萬元
  - (C) 200 萬元
  - (D) 290 萬元
70. 某學者分析：「國防雖有極高之社會邊際效益，但市場機制無法有效供給，須由政府透過稅收方式提供。」下列關於公共財之經濟分析，何者最為正確？
- (A) 公共財具備「敵對性」與「排他性」雙重特徵，故易由市場提供
  - (B) 公共財具備「非敵對性」與「非排他性」雙重特徵，易產生「免費搭便車」(free-rider) 問題
  - (C) 私有財具備「非敵對性」，故消費過程中個人享用不影響他人
  - (D) 俱樂部財 (club goods) 具備「敵對性」與「非排他性」，屬市場失靈最嚴重之類型