

桃園市 115 年國民中學新進教師甄選【專業科目：公民與社會科】試題卷

※注意事項：1、答案請畫在答案卡上，如寫在試題卷上一律不計分。

2、提早繳卷者，請將答案卡與試題卷一併交回。

3、本試題卷共 7 頁。

專業學科：請依照題意，從四個選項中選出一個正確或最佳答案（共 50 題，每題 2 分，合計 100 分）

51. 小文對班上同學如華仰慕已久，某日終於鼓起勇氣向其告白，但遭如華拒絕，表示目前應以課業為重，小文遭拒後仍然天天在校門口等她放學，一起回家。此舉令如華驚嚇不已，天天想辦法變更回家時間與路線，更拉同學一起回家當擋箭牌。請問小文此舉可能違反以下何法？
Ⓐ《性騷擾防治法》 Ⓑ《性別平等教育法》
Ⓒ《性別工作平等法》 Ⓓ《跟蹤騷擾防治法》
52. 小安大學畢業後，一直努力的在找工作，但是幸運之神總與他擦身而過；小偉畢業後順利找到理想工作，目前就業中；小強則打算參加國家考試，所以沒有找工作，努力衝刺中；小華則考上研究所，但因大都市生活大不易，因此兼職打工養活自己。上述四種情形中，何者在計算勞動力時不會被列入計算？
Ⓐ小安 Ⓑ小偉 Ⓒ小強 Ⓓ小華
53. 在預期之外的物價膨脹(Unexpected Inflation)發生時，下列哪一類人通常在此過程中受益？
Ⓐ領取固定月薪且短期內無法調薪的上班族
Ⓑ退休金存放在銀行領取固定利息的長輩
Ⓒ採取固定利率並持續償還房貸的債務人
Ⓓ持有大量現金且不進行任何投資的民眾
54. 某地舉行公共建設的通車典禮，甲媒體的報導用詞：「萬人空巷，顯示此一建設獲得民眾肯定」，乙媒體的用詞是「交通管制不當與車道設計不良，汽、機車互相爭道，現場險象環生」。這兩則新聞主要反映以下何者？
Ⓐ媒體框架 Ⓑ議題設定
Ⓒ守門人理論 Ⓓ同溫層效應
55. 根據《兒童及少年性剝削防制條例》第 31 條規定，18 歲以上之人與 16 歲以上未滿 18 歲之人為有對價之性交或猥褻行為者的處罰？
Ⓐ二年以下有期徒刑、拘役或新台幣 20 萬元以下罰金
Ⓑ一年以下有期徒刑、拘役或新台幣 5 萬元以下罰金
Ⓒ三年以下有期徒刑、拘役或新台幣 10 萬元以下罰金
Ⓓ五年以下有期徒刑、拘役或新台幣 30 萬元以下罰金
56. 我國憲法對領土之規定與變更係分別採用何種原則？
Ⓐ概括主義/憲法限制 Ⓑ列舉主義/憲法限制
Ⓒ列舉主義/法律限制 Ⓓ概括主義/法律限制
57. 下列哪一種品格教育(character education)的德育立場最強調實踐、習慣養成的品格教育？
Ⓐ道德認知發展論 Ⓑ價值澄清法
Ⓒ正義倫理學 Ⓓ德行倫理學
58. 在國際政治領域中，強調國家利益高於道德原則，並主張權力平衡(balance of power)來維持國際秩序。該論述比較傾向下列何種觀點？
Ⓐ理想主義論 Ⓑ現實主義論
Ⓒ功能主義論 Ⓓ多元主義論
59. 公共選擇理論所稱之投票矛盾，下列敘述何者正確？
Ⓐ選民投票成本過高，導致投票率低
Ⓑ少數人的偏好最終主導了投票結果
Ⓒ公民的投票行為與其經濟利益不符合
Ⓓ個人偏好無法產生一致性的社會偏好
60. 某國社會對於是否開放墮胎合法化，意見兩極。這種情形對於參選的候選人，造成極大困擾，支持與否都會招致不滿與批評，惟恐流失選票。所以政黨將社會大眾的關心議題寫入黨綱之前，總要經過多方、多次的溝通、妥協、議價與談判的過程。請問這種過程反映出政黨的哪一種功能？
Ⓐ菁英招募的功能 Ⓑ利益匯集的功能
Ⓒ政治監督的功能 Ⓓ政治社會化的功能
61. 與其他民主法治國家相同，我國的法律體系呈現金字塔形層級(Kelsen 法律位階論)結構，下層法律不得抵觸上層法律，最高階級為憲法。請問這種「金字塔形的法律位階」層級，主要乃是以下列何者作為劃分的依據？
Ⓐ施行效力 Ⓑ修改程序 Ⓒ解釋機構 Ⓓ制定機關
62. 根據勞動市場的供需理論可知，勞工的「願售價格」取決於工作的機會成本。若政府實施「平價托育政策」，對勞動市場最可能的直接影響為何？
Ⓐ提高父母工作的機會成本，導致勞動供給減少
Ⓑ降低父母工作的機會成本，使勞動供給線增加
Ⓒ增加廠商的生產成本，導致勞動需求線向左移
Ⓓ提升勞工的生產力，拉高勞動市場的均衡薪資

桃園市 115 年國民中學新進教師甄選【專業科目：公民與社會科】試題卷

63. 下列哪一種行為最可能被公平會認定為「聯合行為」中具有豁免許可情形？
- Ⓐ 數家醫藥廠商共同合作研發新藥，以分攤昂貴的研發風險與成本
 Ⓑ 兩大超市連鎖店約定共同調漲牛奶價格，以支應不斷上漲的進貨成本
 Ⓒ 兩大外送平臺協議統一外送員的派送薪資，以避免惡性挖角
 Ⓓ 所有的房地產仲介業者共同約定最低佣金比例，以維持服務品質
64. 小品的父親因年邁過世，當時小品母親仍健在，三位兄姊都隨侍在側。經過清點，小品父親留下遺產 500 萬元，沒有負債。依照我國《民法》規定，小品母親的繼承順位 ①，依照應繼分的規定，每人可分得多少遺產 ②。又依照特留分的規定，兄弟姊妹的特留分為應繼分的 ③。
- Ⓐ ① 當然繼承人 ② 100 萬元 ③ 三分之一
 Ⓑ ① 第一順位繼承人 ② 125 萬元 ③ 二分之一
 Ⓒ ① 第二順位繼承人 ② 75 萬元 ③ 三分之一
 Ⓓ ① 第三順位繼承人 ② 166 萬元 ③ 二分之一
65. 小強因一時貪念偷走如華放在桌上的現金 1,000 元，事後遭警方查獲。偵查中，小強坦承犯行且深表悔意，並與如華達成和解返還款項。檢察官考量其為初犯且犯罪情節輕微，命其接受一定時數之法治教育、支付公庫新臺幣若干元，並表示若於一定期間內遵守條件，將不提起公訴。關於本案，下列敘述何者正確？
- Ⓐ 小強已經經法院認定有罪，故屬緩刑制度
 Ⓑ 小強已受刑之宣告，只是暫緩執行刑罰
 Ⓒ 本案係由檢察官於偵查程序作成緩起訴處分
 Ⓓ 小強已入監服刑，符合假釋條件
66. 《公民投票法》第 29 條規定，公民投票案是否通過，以下敘述何者為真？
- Ⓐ 有效同意票數多於不同意票，且有效同意票數達投票權人總額四分之一以上
 Ⓑ 有效同意票數多於有效不同意票，且有效同意票數達投票權人總額三分之一以上
 Ⓒ 有效同意票數多於有效不同意票，且有效同意票數達投票權人總額二分之一以上
 Ⓓ 有效同意票數多於有效不同意票，且有效同意票數達投票權人總額三分之二以上
67. 雙北市全面實施的一般家戶垃圾袋隨袋徵收，和部分縣市實施優先針對特定機關學校或商業場所實施隨袋徵收政策。以及政府設定排碳總量上限，排碳大戶若想多排碳，必須向減碳有成的企業購買額度。這些政策可用何種概念加以說明？
- Ⓐ 外部效益內部化 Ⓑ 外部成本內部化
 Ⓒ 外部成本外部化 Ⓓ 外部效益外部化
68. 當發生全球性重大事件衝擊，致使全球主幹航線綜合停班率一度高達 74%，所有的航運業者都悲觀地預期全球貿易將大受打擊，因此減少船隻、貨櫃等供應量。沒想到各國經濟未受重大事件打擊而衰退，反而開始強勁復甦，導致國際航運合約價格大漲。上述航運價格上漲的影響原因，與下列何者最為相似？
- Ⓐ 缺工狀況嚴重，但宅經濟盛行使任天堂 switch 機價格攀升
 Ⓑ 博物館門票價格外國人高於本國人，使外國參觀者減少
 Ⓒ 連續多日大雨，影響葉菜蔬果成長，影響蔬果價格的變動
 Ⓓ 銀行紛紛實施貨幣寬鬆政策，使國際黃金價格節節上升
69. 「新右派」(New Right)起源於 1970 年代的政治意識形態與社會運動，核心特徵是結合了「新自由主義的經濟主張」與「新保守主義的社會價值」。它最初是為了反對二次大戰後盛行的凱恩斯主義與福利國家制度而崛起。「新右派」對民主政治提出相當深刻的批判，下列何者最符應新右派的論點？
- Ⓐ 分權政府(divided government)制度
 Ⓑ 民主超載(democratic overload)的危險
 Ⓒ 三邊政府(triparties government)的機制
 Ⓓ 寡頭鐵律(the iron law of oligarchy)原則
70. 小如目前就讀大學二年級，家境小康，想著自己一人在外地求學，給家裡帶來不小的負擔，因此她決定去打工，一方面減輕家庭的負擔，二方面學習自立，三方面累積社會經驗，她在應徵前作足了功課，了解自民國 115 年起勞工的基本工資為 ① 元，時薪 ② 元，而且依《勞工保險條例》規定，員工數在 ③ 人以上，強制雇主要幫勞工投保 ④。
- Ⓐ ① 28,590 元 ② 183 元 ③ 4 人 ④ 團體險
 Ⓑ ① 27,470 元 ② 193 元 ③ 6 人 ④ 人壽保險
 Ⓒ ① 28,950 元 ② 174 元 ③ 1 人 ④ 學生平安保險
 Ⓓ ① 29,500 元 ② 196 元 ③ 5 人 ④ 勞工保險
71. 二手車買賣市場出現：賣方清楚車況(可能曾泡水或出過重大事故)，但買方僅能看見外觀，又因為買方只願出低價購買，導致優質二手車退出市場。上述是哪一項原因導致市場失靈現象產生的？
- Ⓐ 外部性 Ⓑ 公共財
 Ⓒ 市場勢力 Ⓓ 資訊不對稱

桃園市 115 年國民中學新進教師甄選【專業科目：公民與社會科】試題卷

72. 勞動供給線通常為正斜率，但當薪資提高到一定程度後可能出現「後彎」現象。關於此現象的分析，下列何者最為正確？
- Ⓐ薪資提高導致工作的機會成本降低，使勞工願意提供更多勞務
 - Ⓑ薪資提高產生的所得效果大於替代效果，使勞工增加休閒時間
 - Ⓒ當勞工認為增加休息帶來的邊際利益小於增加薪資的利益時，會減少勞動供給
 - Ⓓ政府調升基本工資後，因為保障了勞工基本生活，導致勞工的失業率大幅提升

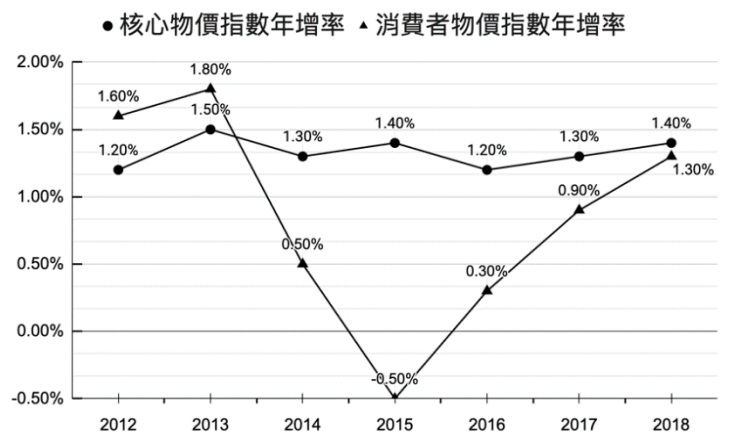
73. 國際貿易能促進全球資源分配，但也可能對國內特定產業帶來衝擊。當我國宣布對某項原本受到保護的民生農產品開放自由進口，且不實施任何關稅或配額限制。在完全競爭市場假設下，關於此項貿易政策開放後的市場效益變化，下列敘述何者錯誤？
- Ⓐ國內該農產品的市場價格將下跌，導致國內市場的生產者剩餘減少
 - Ⓑ由於進口產品價格較低，國內市場的消費者剩餘將擴大，且其增加的幅度將大於生產者剩餘的損失
 - Ⓒ綜合國內消費者與生產者的權益評估，我國全體社會的總剩餘將獲得淨增加
 - Ⓓ進口廠商將從國外大量進口該產品，導致我國的國民所得毛額必然在短期內翻倍增長

74. 某城市為減輕年輕租屋族的負擔，通過平價租金法案，規定該市 90% 的租屋必須納入租金上限管制，且價格遠低於市場均衡租金。關於該政策實施後可能產生的副作用，下列哪一項分析最為正確？
- Ⓐ因為租房負擔減輕，消費者剩餘必然增加，進而提升整體市場的社會福祉
 - Ⓑ為了追求經濟效率，政府將規定價格上限高於均衡價格，以刺激建商興建更多房屋
 - Ⓒ房東因租金收入減少而將租屋轉為出售，導致租屋市場供給短缺，反而更難租到房
 - Ⓓ市場將出現超額供給，房客為了挑選理想房屋，必須支付額外的代購費給仲介

75. 我國與法國第五共和政府皆屬於雙首長制，從憲法的內容來看，針對兩國政府體制運作的敘述，下列何者正確？
- Ⓐ內閣須向國會負責，因此兩國的內閣均得發動信任投票，國會亦得發動不信任投票
 - Ⓑ我國大法官與法國憲法委員會之成員，皆由總統提名，國會半數通過，不得連任
 - Ⓒ我國行政院院長與法國內閣總理，於國會通過不信任案後，皆須呈請總統解散國會

- Ⓓ就總統發布緊急命令權而言，我國尚須經國會追認，法國則無須國會監督與終止

76. 下圖為某國 2012 年~2018 年「消費者物價指數年增率」與「核心物價指數年增率」的走勢圖。圖中顯示，在 2014 年下半年至 2015 年間，總指數大幅下滑甚至出現負值，但核心物價指數仍維持在 1% 左右的平穩正成長。請問，關於該區間兩指標出現顯著差異的原因，下列哪一項推論最為合理？



- Ⓐ當時全球發生嚴重金融風暴，導致民眾消費需求全面萎縮，引發國內通貨緊縮
- Ⓑ夏季氣候異常平穩且風調雨順，導致國內蔬果產量大增，供給增加、價格暴跌
- Ⓒ國際原油市場出現供給過剩，導致燃油價格大幅下降，抵銷了其他民生物價的漲幅
- Ⓓ政府為了抑制通膨，採取緊縮性貨幣政策大幅升息，使該年物價年增率大幅下降

77. 下表是明義老師構思設計的教學示例。何者最能說明明義老師想要實踐的教學理念？

面向	主題	學習示例
政治與民主	民主社會中的政治參與為什麼重要？	從「背誦選舉制度」轉為「規畫中學生政治參與提案」
法律與生活	經濟生活中有哪些民事與刑事規範？	從「死記法條」轉為「閱讀生活契約（如租屋、網購）防範詐騙」
經濟與永續	市場失靈與政府管制如何平衡？	從「計算供需曲線」轉為「思辨碳稅政策對民生與環境的影響」
社會與文化	社會不平等與多元文化如何共融？	從「定義文化歧視」轉為「設計校園友善多元族群的倡議活動」

- Ⓐ素養導向教學必須搭配「素養導向評量」，評量不再只考「是什麼(What)」，更看重「怎麼做(How)」
- Ⓑ高中與國中學習階段的公民與社會科學學習內容採「疑問句形式」作為學習指引
- Ⓒ公民與社會科的素養導向教學，在於將「學科知識」轉化為學生「面對真實生活情境」的實踐能力
- Ⓓ強調學習歷程與策略:注重學生「如何學」，引導其進行後設認知與思辨反思視為素養導向的主要教學目的

桃園市 115 年國民中學新進教師甄選【專業科目：公民與社會科】試題卷

78. 珊珊老師開放學生提出對生成式 AI 與學習關聯的想法。何者的論述可能是較能被各界廣為接受的？

- 甲、AI 協作教師可善用生成式 AI(如 ChatGPT 或 Claude)優化課程設計，降低備課焦慮並提升教學品質。
- 乙、將 AI 當作「對話夥伴」，向 AI 解釋自己的觀點，並透過反覆提問(Prompt)修正、深化論點。
- 丙、討論特定公共議題(如外送員勞動權益)，可以完全依賴 AI 生成的正反方論述或模擬攻防劇本，作為課堂小組辯論素材。
- 丁、AI 帶來的隱私權與個資防護問題，如 AI 人臉辨識與監視器數據是否侵害人權等議題需要留意。
- 戊、透過 AI 生成藝術或文章帶來各界需要的便捷效益，幾乎沒有其他可被挑戰之處。

- Ⓐ甲乙丙 Ⓑ甲乙丁 Ⓒ乙丁戊 Ⓓ丙丁戊

79. 我國 2020 年通過《國民法官法》，關於國民法官的相關敘述，下列何者正確？

- Ⓐ年滿 60 歲以上者可向法院說明理由後，表明拒絕擔任國民法官
- Ⓑ若無正當理由於國民法官選任日未到庭，須負擔刑事責任
- Ⓒ國民法官須在地方法院管轄區域連續居住滿 6 個月以上
- Ⓓ擔任國民法官屬於義務，原則上符合資格且沒有無法擔任的事由不得拒絕

80. 某教師駕車行經市區道路，因未依規定使用方向燈，遭員警攔停舉發並開立交通違規罰單。該老師認為員警認定錯誤，不服處分。有關該老師可提起之救濟方式，下列推論何者較為正確？

- Ⓐ該師應依刑事訴訟程序提起自訴，且須委任律師代理
- Ⓑ該師得於收受裁決書後，向高等行政法院地方行政訴訟庭提起行政訴訟，不需先經訴願程序
- Ⓒ該師須先向原處分機關提起申訴，再向監理所提起再申訴
- Ⓓ該案件採「三級三審制」，若不服判決可逐級上訴至最高法院

81. 《中華民國憲法增修條文》第 2 條規定，立法院提出總統、副總統彈劾案，聲請 ① 審理，經 ② 判決成立，被彈劾人應解職。

- Ⓐ①最高法院 ②民事與刑事庭合組審判庭
- Ⓑ①最高法院 ②刑事庭
- Ⓒ①司法院大法官 ②憲法法庭
- Ⓓ①最高法院 ②國民法官組成之特別庭

82. 某少年因長期與同儕發生肢體衝突，並多次在校外出現暴力行為，而逐漸被學校師長、鄰里與同學視為「問題學生」或「壞孩子」。在反覆遭受負面評價後，他開始疏離原本的朋友圈，反而更常與具有偏差行為的同儕往來，且違規與暴力行為也愈加頻繁。若從標籤理論(labeling theory)觀點分析，下列何者最能解釋此現象？

- Ⓐ少年因被正式制度與重要他人貼上負面標籤，逐漸內化偏差身分而產生次級偏差
- Ⓑ少年偏差源於合法機會結構受阻，反映階級不平等下的緊張適應反應
- Ⓒ少年偏差行為反映家庭社會化失靈，須透過道德教育與管教強化加以矯正
- Ⓓ偏差行為威脅社會集體意識，司法制度發揮邊界維持功能以鞏固規範整合

83. 某科技公司在招募與升遷制度上，雖未明文限制女性員工參與主管職競爭，但實際上女性較少被指派核心專案，也較常因婚育角色期待而被認為「不適合高壓管理工作」。部分女性員工因此逐漸降低競爭意願，並集中於行政與協調性職務。若從自由主義女性主義(liberal feminism)的觀點分析，下列何者最符合其主張？

- Ⓐ性別不平等主要來自父權資本主義結構，因此必須全面改造經濟制度
- Ⓑ男女差異源自生理本質，因此不同職業分工具有一定合理性
- Ⓒ女性處境的改善，應透過消除制度性歧視與提供平等教育、就業與參與機會來達成
- Ⓓ性別角色乃語言與符號建構的結果，因此應解構所有既有性別分類

84. 某直轄市教育局表示，尖峰補習班雖經准予籌設，只代表其通過書面審核，於未經核准立案前仍係未立案補習班，因此該補習班仍需邀集消防、建管單位現場會勘，才能確認安全無虞。即日起改採《行政執行法》，以怠金方式提高罰鍰，最高可罰 30 萬元，可連續罰，最後不排除採斷水斷電措施。有關《行政執行法》之怠金制度敘述，下列何者正確？

- Ⓐ處怠金處分前「無須」告誡程序
- Ⓑ怠金為刑事罰，處罰之額度有一定之限制
- Ⓒ怠金限於可替代性之作為義務不履行時為之
- Ⓓ本質上並非處罰，故無「一事不二罰」原則之適用

桃園市 115 年國民中學新進教師甄選【專業科目：公民與社會科】試題卷

85. 下面表列呈現內閣制中「影子內閣」(shadow cabinet)的優缺點比較。哪一個選項最能說明影子內閣的特色？

優點	缺點/挑戰
1. 挑戰培養執政人才：讓在野黨議員提前熟悉部會運作，避免新手執政。	1. 加劇黨內內耗：若黨內派系不和，影子內閣的職位分配可能引發內部政治鬥爭。
2. 提高政策辯論品質：專人專責長期追蹤單一部會，讓國會質詢更具專業度。	2. 受限於體制：通常只適用於內閣制國家，在總統制或半總統制(如台灣)較難建構相同的憲政慣例。

- (A)較不具權力且是義務無薪的內閣閣員
 (B)執政黨中的備位接班團隊。影子內閣成員與現任政府內閣官員形成「一對一」的對應關係
 (C)視為「預備政府」，一旦執政黨因大選敗選或倒閣下台，影子內閣成員通常會「直接扶正」成為正式內閣官員，避免國家出現權力真空
 (D)在國會質詢中，影子大臣會就其負責的部會政策進行專業抨擊，迫使執政黨為政策辯護，提出替代方案，以現任內閣中的備位接班梯隊之姿出現

86. 有鑒於近年來手機成癮越來越盛行，教育部提出「高級中等以下學校學生攜帶行動載具到校管理原則」草案。此草案立刻引發學生反彈並舉辦多場抗議，教育部立即召開公聽會，補全民主程序廣納學生意見。在此脈絡下，各校對手機管理出現高度落差，引發學生與家長對校規是否合憲、是否尊重學生為權利主體之質疑。以下為某高中針對手機管理訂定之校規：

- 一、學生到校後一律須將手機交由學校統一保管，放學後始得領回。
 二、未交手機者，經勸導無效，得記警告乙次。
 三、上課、下課時間，不得使用任何行動載具，違反者得沒收手機。
 四、若出現繳交「疑似備用手機」之行為，則日後取消攜帶手機之資格。
 五、校方得隨機抽查學生手機中是否有 Sim 卡，以確認是否為備用手機。

以下是幾位同學對某高中校規討論，何者推論較為合理？

- (A)甲：目前教育部提出手機管理原則僅為草案階段，若該校以此作為法源依據訂定校規，則有違反「法律優位原則」之疑慮
 (B)乙：若該校收手機之行為，所造成之損害，遠大於整體利益，則有違反「比例原則」當中「適當性原則」之疑慮

(C)丙：校方對學生手機進行 Sim 卡檢查行為，嚴重侵害學生隱私權，且不符正當程序，有違反「信賴保護原則」之疑慮

(D)丁：該高中校規中，對於「疑似備用手機」之定義讓學生難以具備可預見性，將有違反「明確性原則」之疑慮

87. 學生某甲於段考時，於桌面放置食物，違反考試規則。監考老師見狀，便登記違規記警告乙次。直至段考後，某甲才發現其被懲處之事，某甲不服，決定向學校請求相關救濟。試問：關於某甲提起之行政救濟程序，下列敘述何者較為合理？
- (A)先向學生申訴評議委員會提起訴願，再向教育部(局)提起再申訴
 (B)某甲經申訴、再申訴後，得以地方行政法院作為一審，提行政訴訟
 (C)某甲經申訴、再申訴後，向高等行政法院地方行政訴訟庭提起訴訟
 (D)某甲可於申訴、再申訴後，以學校為被告，進行行政訴訟三級三審

88. 近期日圓匯率大跳水，不僅日圓兌美元匯率創新低，連日圓兌新台幣匯率，也再貶破歷史新低點，預料將再掀一波民眾換匯潮。關於貨幣的升值及貶值與國際貿易，如不計關稅、運費等項目，則對臺灣及日本兩國農產品的進出口的影響，下列何者較為正確？

- (A)日本農產品以台幣計價變得較以前便宜，有利日本農產品出口至台灣
 (B)日本農產品以台幣計價變得較以前昂貴，有利日本農產品出口至台灣
 (C)台幣計價的日本農產品變便宜，將使日本農產品進口至台灣的數量減少
 (D)日圓貶值僅影響日本國內物價，對台日兩國農產品貿易毫無影響

89. 阿文寫了一首很棒的歌曲，將之授權給唱片公司出版為音樂帶，但唱片公司卻沒有標示作者的姓名，請問唱片公司此舉侵害了阿文的何種權利？①，經過阿文的抗議，唱片公司認錯回收舊品，新品重新上架。過了三年阿文因故病逝，請問阿文這首歌受著作權法保護幾年？②。

- (A)①著作人格權 ②死後 50 年
 (B)①著作財產權 ②死前與死後共 53 年
 (C)①重製權 ②死後 30 年
 (D)①散布權 ②死後 40 年

90. 2025 年 10 月，美國聯邦政府近期因國會兩黨對預算案存在嚴重分歧，總統川普(Donald Trump)自 2025 年 1 月重返白宮後，立即著手大幅縮減聯邦政府規模，並揚言將利用這次預算危機進一步推動人員裁減，導致部分政府機構因缺乏經費而被迫「停擺」(Government Shutdown)，依照美國制度，聯邦政府的支出計畫必須經國會批准，再交由總統簽署成為法律。這種現象在多數民主國家較為罕見，被視為美國總統制下獨有的政治僵局，成為美國史上最長的政府關門危機。試問：美國政府停擺現象的發生，主要體現了美國憲政體制中的何種運作特徵？

- Ⓐ美國政體採行政立法分立，行政團隊須向國會負責，並接受質詢
- Ⓑ美國國會擁有法案及預算的議決權，和總統及行政團隊相互制衡
- Ⓒ美國雖有不信任案制度，但因為門檻過高，較難及時化解僵局
- Ⓓ美國總統權力來自國會，故須向國會負責，定期接受國會質詢

91. 2025 年，台中爆發非洲豬瘟，中央前進應變所持續召開記者會，目前除台中案例場，全國無異常，豬隻禁運禁宰至 11/6 日中午為止。台中市長表示，市府針對相關業者的補助方案會繼續，直到禁制期結束為止，將視中央宣布程度會有不同配套。而台中染非洲豬瘟的養豬場經國軍化學兵 24 小時清消，等待環境中的消毒藥劑乾後，中央進行第三次環境採檢。請問：本次我國處理非洲豬瘟之業務性質與何者相似？

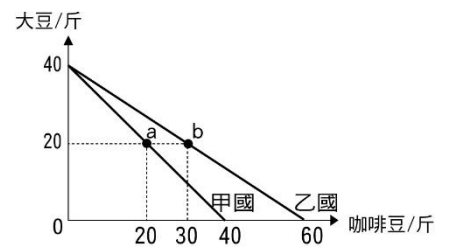
- Ⓐ中央推行租屋補助計畫，由各地政府制定相關規範審查
- Ⓑ台北市政府與新北市政府共同規劃捷運路線及相關政策
- Ⓒ中央舉辦全國性選舉時，由各地政府協助設立投開票所
- Ⓓ高雄市政府為響應韓團 Twice 來台，將市景改為深藍色

92. 近年來，許多年輕世代大量使用 TikTok、Instagram 等短影音與社群平台，並在日常互動中頻繁使用其中流行的語言、迷因、穿搭風格與價值表達方式。部分青少年甚至透過按讚、留言與模仿創作者內容，從而逐漸建立對「受歡迎」、「成功」或「理想生活」的想像。若從符號互動論(Symbolic Interactionism)的觀點分析，下列何者最符合其核心主張？

- Ⓐ短影音平台透過資本與演算法控制，成為主導意識形態再製的重要工具
- Ⓑ青少年對流行文化意義的理解，是在日常互動與符號交換過程中逐漸建構而成

- Ⓒ網路文化快速擴散，反映社會制度分工與科技進步所帶來的必然結果
- Ⓓ青少年價值觀改變的根本原因，在於社會階級與教育資源差距日益擴大

93. 資源相同的甲國與乙國都生產「咖啡豆」與「大豆」。下圖是兩國各自的「生產可能線」；圖中 a 點是甲國在貿易前的生產點，也是消費點；b 點是乙國在貿易前的生產與消費點。



若兩國均專業生產其具有「比較利益」的產品，然後在兩國之間自由買賣，關於兩國進出口貿易後國內消費情形，何者絕對不可能出現？

- Ⓐ甲國消費 27 斤咖啡豆與 20 斤大豆
- Ⓑ乙國消費 32 斤咖啡豆與 26 斤大豆
- Ⓒ甲國消費大豆與咖啡豆都超過 25 斤
- Ⓓ乙國消費的大豆與咖啡豆都是 30 斤

94. 某社群平台在重大公共議題發生時，雖提供大量討論空間，但演算法卻傾向優先推送情緒化、對立性強與吸引流量的內容，使公共討論逐漸流於口號化與情緒動員，而非深入理性辯論。部分學者因此批評，當代媒體看似提供自由討論空間，實際上卻可能受到商業利益與意識形態力量所支配。若從法蘭克福學派(Frankfurt School)對大眾媒體與公共領域的批判觀點分析，下列何者最為適當？

- Ⓐ大眾媒體的主要功能在於促進社會整合與維持價值共識
- Ⓑ公共領域中的討論，只要具備多元意見即可自然形成民主共識
- Ⓒ社群媒體提高了資訊流通效率，因此能消除權力不平等問題
- Ⓓ媒體與文化工業可能透過商業化與意識形態控制，使公眾失去批判反思能力

95. 邊沁(Jeremy Bentham)的「效益主義」(Utilitarianism)是一種著名的倫理學理論，主張「最大多數人的最大快樂」是衡量行為對錯與社會決策的最高道德標準。下列何者最不可能是在邊沁學說面臨的重大批判？

- Ⓐ個人主觀感受很難用統一的數字標準進行精確加減
- Ⓑ只看快樂的量而不分質，將人類的快樂等同於動物的口腹之慾
- Ⓒ公共利益必須以個人利益為優先考量，個人利益一旦被實現，社會整體的福祉也將提高
- Ⓓ為了「最大多數人的快樂」，少數人的基本權利可能會被犧牲

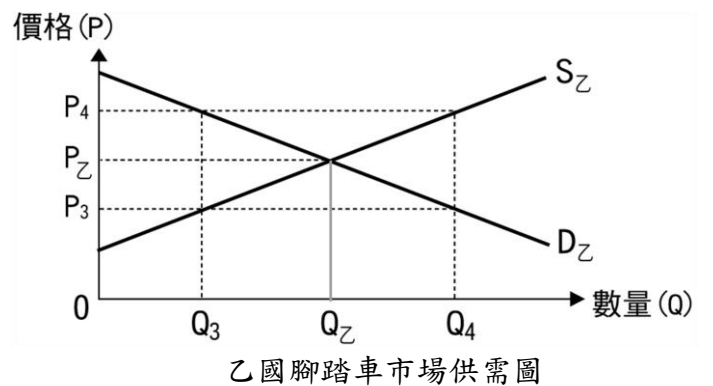
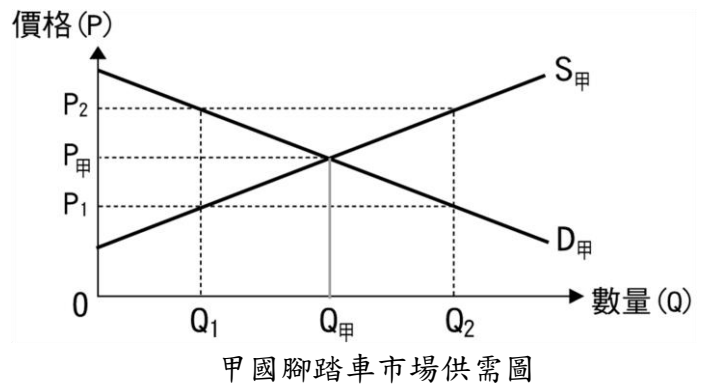
96. 有學者認為，「臺灣移工治理政策具私有化的特徵，政府將管理移工的職責外包給私有仲介公司，這可以解釋，臺灣作為一個民主國家，為什麼會有高比例的移工在契約結束後如期返回母國，因為私有仲介公司有經濟誘因確保移工不會逾期滯留。然而，國際移工不應該僅是經濟或是人口議題，因其勞動權益是與公民權相關的政治議題。」從公民權保障與民主治理的角度，下列敘述何者與該學者的觀點最為相近？
- Ⓐ 臺灣移工多半來自經濟發展比臺灣落後的國家，因此這是一個經濟議題、不是政治議題
- Ⓑ 公私協力雖是民主國家的基石，但並不適用在移工的管理上
- Ⓒ 臺灣對移工提供經濟參與機會，但移工的政治參與權利較為不足，影響其勞動權益的保障
- Ⓓ 仲介公司如何處置移工，是其作為私有企業的自由，政府不應該干預

97. 小強與小如是夫妻，結婚時未約定採用何種夫妻財產制。請問，我國《民法》規定沒有約定夫妻財產制者適用哪一種夫妻財產制：①，經過 10 年雙方離婚，雙方的財產明細如下：
- 小強婚前財產：存款一筆 20 萬元，婚後土地一筆 500 萬元，負債 120 萬元。
- 小如婚前財產：存款一筆 10 萬元，婚後房屋一棟 700 萬元，負債 220 萬元。依照夫妻剩餘財產差額分配請求權的規定，應如何分配離婚後的財產？②
- Ⓐ ① 適用法定財產制 ② 小如應給小強 50 萬元
- Ⓑ ① 適用共同財產制 ② 小如應給小強 100 萬元
- Ⓒ ① 適用分別財產制 ② 各自擁有不必分配
- Ⓓ ① 適用法定財產制 ② 小如應給小強 45 萬元

98. 經濟學家指出，臺灣長期存在的「低價陷阱」與過度依賴出口的經濟體質有關。下列關於政府與央行政策對此現象影響的分析，何者最合理？
- Ⓐ 政府以提高利率的方式抑制房價，間接導致國內服務業薪資長期偏低、物價緊縮
- Ⓑ 央行壓低新臺幣的匯率以補貼出口商，卻犧牲了全體消費者對進口財貨的購買力
- Ⓒ 政府透過擴大投資公共建設降低失業率，是臺灣能避開中等所得陷阱的主要原因
- Ⓓ 臺灣薪資停滯是因為分配給勞工的比例過高，導致廠商不願進行設備更新與投資

99. 國內生產毛額(GDP)是衡量一國經濟規模與國民所得的重要指標。在進行 GDP 的計算與跨國福利比較時，下列哪一項經濟活動應被正式計入我國的 GDP 中？
- Ⓐ 我國某高科技晶圓代工廠派駐於美國設廠所創造的年度營業額與產值
- Ⓑ 某中古車商承接二手車買賣，經由整修與媒合後，向買家收取的服務佣金
- Ⓒ 外籍移工將其在我國合法工作獲得的薪資，透過跨國金融系統全數匯回其母國的金額
- Ⓓ 政府為了因應景氣低迷，向全體國民發放總額達數百億元的「振興經濟消費券」

100. 假設世界上只有甲、乙兩個國家，兩國皆生產腳踏車。開放貿易前，國內腳踏車均衡價格為 $P_甲$ 、 $P_乙$ ，兩國開放貿易後，在不考慮運輸成本、關稅、匯率等因素的情況下，國際價格為 $P_1 = P_4$ ，出口量=進口量= Q^* 。若以經濟學相關概念分析兩國的貿易，下列敘述何者正確？



- Ⓐ 「 $P_甲 = P_乙$ 」為兩國開放貿易之誘因
- Ⓑ 國際貿易中，甲扮演進口國、乙扮演出口國
- Ⓒ 甲國生產腳踏車的機會成本低於乙國
- Ⓓ 貿易後，乙國的經濟福祉增加，甲國卻減少

-----試題結束-----
敬祝金榜題名